

## «Правила Дорожного Движения 2019»

Вопросы и ответы из теста по [Правилам Дорожного Движения 2019](#) с сайта [oltest.ru](#).

Общее количество вопросов: 907

Тест на знание Правил Дорожного Движения РФ. Вопросы из официальных экзаменационных билетов ПДД 2019, в соответствии с изменениями на 1 января 2019 года, с комментариями.

Список тем:

- 1. Общие положения
- 2. Общие обязанности водителей
- 3. Применение специальных сигналов
- 4. Обязанности пешеходов
- 6. Сигналы светофора и регулировщика
- 7. Применение аварийной сигнализации
- 8. Начало движения, маневрирование
- 9. Расположение ТС на проезжей части
- 10. Скорость движения
- 11. Обгон, опережение, встречный разъезд
- 12. Остановка и стоянка
- 13. Проезд перекрестков
- 14. Пешеходные переходы и остановки
- 15. Движение через железнодорожные пути
- 16. Движение по автомагистралям
- 17. Движение в жилых зонах
- 18. Приоритет маршрутных ТС
- 19. Световые приборы и звуковой сигнал
- 20. Буксировка механических ТС
- 21. Учебная езда
- 22. Перевозка людей
- 23. Перевозка грузов
- 24. Движение на велосипедах, мопедах
- Основы безопасности дорожного движения
- Ответственность за нарушение ПДД
- Первая медицинская помощь при ДТП
- Дорожные знаки: 1. Предупреждающие знаки
- Дорожные знаки: 2. Знаки приоритета
- Дорожные знаки: 3. Запрещающие знаки
- Дорожные знаки: 4. Предписывающие знаки



## 1. Общие положения



1. Вы намерены повернуть направо. Можете ли Вы приступить к повороту?
- **Да, но не создавая помех грузовому автомобилю.**



2. Выезжая с грунтовой дороги, Вы попадаете:
- **На главную дорогу.**



3. Сколько пересечений проезжих частей имеет этот перекресток?
- **Два.**





4. Проезжая часть данной дороги имеет:
- **Две полосы для движения.**



5. Сколько перекрестков изображено на рисунке?
- **Один.**



6. На каком рисунке изображена дорога с разделительной полосой?
- **На обоих.**



7. Должны ли Вы уступить дорогу грузовому автомобилю в данной ситуации?
- **Нет.**





8. Выезд из двора или с другой прилегающей территории:  
• **Не считается перекрестком.**



9. По какой траектории Вам разрешено выполнить разворот?  
• **Только по А.**



10. Разрешается ли Вам осуществить посадку (высадку) пассажиров либо загрузку (разгрузку) транспортного средства в зоне действия этого знака?  
• **Да, даже если остановка продлится более 5 минут.**





11.

Вы намерены проехать перекресток в прямом направлении. Следует ли уступить дорогу грузовому автомобилю, выезжающему с грунтовой дороги?

• **Нет.**



12.

Разрешен ли Вам обгон сразу трех транспортных средств после проезда пешеходного перехода?

• **Разрешен.**



13.

Сколько пересечений проезжих частей имеет этот перекресток?

• **Два.**



14.

Разрешено ли Вам поставить автомобиль на стоянку за путепроводом?

• **Нет.**






15.  
На каких рисунках показана главная дорога?
- На левом верхнем и нижнем.



16.  
В каких направлениях Вам разрешено продолжить движение на перекрестке?
- А или В.



17.  
Сколько проезжих частей имеет данная дорога?
- Одну.



18.  
На каких рисунках показана главная дорога?
- Только на верхних.





19. Кто из мотоциклистов занял правильное положение на полосе движения?  
 • **Оба мотоциклиста.**



**А**




**Б**



**В**

20. Какие знаки предоставляют Вам преимущество при проезде нерегулируемых перекрестков?  
 • **А и В.**



21. Вы намерены повернуть направо. Можете ли Вы приступить к повороту?  
 • **Да, после того, как грузовой автомобиль начнет поворот.**



22. В каком случае на автомагистрали Вам разрешено остановиться правее линии, обозначающей край проезжей части?  
 • **Только в случае вынужденной остановки.**





23. Обязан ли мотоциклист уступить Вам дорогу в данной ситуации?  
• **Да.**



24. Сколько полос для движения имеет данная дорога?  
• **Четыре.**



25. Кто имеет преимущество в движении?  
• **Водитель грузового автомобиля.**



26. На каком рисунке изображен перекресток?  
• **Только на левом.**







27.

Вы намерены проехать перекресток в прямом направлении. Ваши действия?

- Уступите дорогу автомобилю с включенными проблесковым маячком и специальным звуковым сигналом.



28.

Разрешается ли Вам на узкой проезжей части произвести разворот с заездом во двор?

- Да, если не будут созданы помехи другим участникам движения.



29.

Нарушает ли водитель Правила, двигаясь посередине дороги?

- Нарушает.



30.

Какой маневр намеревается выполнить водитель легкового автомобиля?

- Перестроение с дальнейшим опережением.





31. Кто из мотоциклистов занял правильное положение на полосе движения?  
• **Оба мотоциклиста.**



32. Сколько проезжих частей имеет данная дорога?  
• **Две.**



33. Сколько полос для движения имеет данная дорога?  
• **Четыре.**



34. Разрешена ли Вам стоянка в указанном месте?  
• **Нет.**





35.

Кто из водителей, совершающих поворот, нарушает Правила?

- **Оба нарушают.**

36. В каком случае Вы совершите вынужденную остановку?

- **Остановившись на проезжей части из-за технической неисправности автомобиля.**

37. Дневные ходовые огни предназначены для:

- **Улучшения видимости движущегося транспортного средства в светлое время суток только спереди.**

38. Какая дорога является главной на перекрестке?

- **Дорога с твердым покрытием по отношению к грунтовой дороге.**

39. Какие транспортные средства по Правилам относятся к маршрутным транспортным средствам?

- **Автобусы, троллейбусы и трамваи, предназначенные для перевозки людей и движущиеся по установленному маршруту с обозначенными местами остановок.**

40. Противотуманные фары и задние противотуманные фонари могут быть включены одновременно:

- **В условиях недостаточной видимости.**

41. Что называется разрешенной максимальной массой транспортного средства?

- **Масса снаряженного транспортного средства с грузом, водителем и пассажирами, установленная предприятием-изготовителем в качестве максимально допустимой.**

42. Что означает термин «Недостаточная видимость»?

- **Видимость дороги менее 300 м в условиях тумана, дождя, снегопада и т.п., а также в сумерки.**

43. Что означает термин «обгон»?

- **Опережение одного или нескольких транспортных средств, связанное с выездом на полосу (сторону проезжей части), предназначенную для встречного движения, и последующим возвращением на ранее занимаемую полосу (сторону проезжей части).**

44. Что означает термин «Ограниченная видимость»?

- **Видимость дороги, ограниченная рельефом местности, геометрическими параметрами дороги, растительностью, строениями, сооружениями или другими объектами.**

45. Что означает требование уступить дорогу?

- **Вы не должны возобновлять или продолжать движение, осуществлять какой-либо маневр, если это может вынудить других участников движения, имеющих по отношению к Вам преимущество, изменить направление движения или скорость.**

46. Являются ли тротуары и обочины частью дороги?

- **Являются.**



## 2. Общие обязанности водителей

47. В каких случаях Вам запрещается дальнейшее движение даже до места ремонта или стоянки с негорящими (из-за неисправности) фарами и задними габаритными огнями?

- **В обоих перечисленных случаях.**

48. В каком случае Вам запрещается дальнейшее движение на автомобиле с прицепом даже до места ремонта или стоянки?

- **Неисправно сцепное устройство.**

49. Водители и пассажиры каких транспортных средств при движении должны быть пристегнуты ремнями безопасности?

- **Всех транспортных средств, оборудованных ремнями безопасности.**

50. Как Вы должны поступить, если во время движения отказал в работе спидометр?

- **Попытаться устранить неисправность на месте, а если это невозможно, то следовать к месту стоянки или ремонта с соблюдением необходимых мер предосторожности.**

51. Каковы типичные признаки наступившего утомления водителя?

- **Сонливость, вялость, притупление внимания.**

52. Могут ли водители, причастные к дорожно-транспортному происшествию, прибыть на ближайший пост ДПС или в подразделение полиции для оформления происшествия, если нет пострадавших?

- **Могут только при взаимном согласии в оценке обстоятельств случившегося и при наличии составленной и подписанной ими схемы дорожно-транспортного происшествия.**

53. Можете ли Вы, будучи владельцем легкового автомобиля, передавать управление этим транспортным средством в своем присутствии другому лицу, имея соответствующий страховой полис?

- **Можете при наличии у этого лица водительского удостоверения на право управления транспортным средством категории «В».**

54. Можете ли Вы, будучи владельцем мотоцикла, передавать управление этим транспортным средством в своем присутствии другому лицу, имея при этом соответствующий страховой полис?

- **Можете при наличии у этого лица водительского удостоверения на право управления транспортным средством категории «А».**

55. Обязаны ли Вы предоставлять транспортное средство медицинским и фармацевтическим работникам для перевозки граждан в ближайшее лечебно-профилактическое учреждение в случаях, угрожающих их жизни?

- **Обязаны независимо от направления движения.**

56. По требованию каких лиц Вы обязаны передавать для проверки водительское или временное разрешение на право управления транспортным средством соответствующей категории, страховой полис обязательного страхования гражданской ответственности, регистрационные документы на транспортное средство?

- **Сотрудника полиции.**

57. По требованию каких лиц Вы обязаны проходить освидетельствование на состояние алкогольного опьянения и медицинское освидетельствование на состояние опьянения?

- **Должностных лиц, которым предоставлено право государственного надзора и контроля за безопасностью дорожного движения и эксплуатацией транспортного средства.**

58. При возникновении какой неисправности Вам запрещено дальнейшее движение даже до места ремонта или стоянки?

- **Неисправна рабочая тормозная система.**



59. При возникновении какой неисправности Вам запрещено дальнейшее движение даже до места ремонта или стоянки?

- **Неисправно рулевое управление.**

60. При движении на легковом автомобиле, оборудованном ремнями безопасности, пристегиваться ремнями должны:

- **Все лица, находящиеся в автомобиле.**

61. При какой неисправности Вам запрещено дальнейшее движение на транспортном средстве во время дождя или снегопада?

- **Не действует стеклоочиститель со стороны водителя.**

62. При наличии каких обстоятельств оформление документов о дорожно-транспортном происшествии (ДТП) может быть осуществлено без участия уполномоченных на то сотрудников полиции?

- **При наличии одновременно всех перечисленных обстоятельств.**

63. Разрешается ли водителю легкового автомобиля занять место в движущейся организованной колонне?

- **Не разрешается.**

64. Разрешается ли водителю пользоваться телефоном во время движения?

- **Разрешается только при использовании технического устройства, позволяющего вести переговоры без использования рук.**

65. Разрешается ли движение до места ремонта или стоянки в темное время суток с негорящими (из-за неисправности) фарами и задними габаритными огнями?

- **Запрещается.**

66. Что обязаны сделать в первую очередь водители, причастные к дорожно-транспортному происшествию?

- **Остановиться, включить аварийную сигнализацию и выставить знак аварийной остановки.**



### 3. Применение специальных сигналов



67.

Вы намерены повернуть налево. Ваши действия?


- Уступите дорогу обоим транспортным средствам.



68.

В каких направлениях может продолжить движение водитель автомобиля с включенным проблесковым маячком?

- В любом.



69.

Вы намерены проехать перекресток в прямом направлении. Должны ли Вы уступить дорогу встречному автомобилю с включенным проблесковым маячком?

- Нет.





70.

Вы намерены повернуть налево. Кому следует уступить дорогу?

- Только автомобилю с включенными проблесковым маячком и специальным звуковым сигналом.



71.

Вы намерены повернуть налево. Ваши действия?

- Проедете перекресток первым.



72.

Намереваясь продолжить движение в прямом направлении, Вы должны:

- Пропустить автомобиль с включенными проблесковым маячком и специальным звуковым сигналом.





73. Вы намерены повернуть налево. Кому следует уступить дорогу?
- **Обоим транспортным средствам.**



74. При движении прямо Вы:
- **Должны уступить дорогу только мотоциклу.**



75. Вы намерены повернуть налево. Ваши действия?
- **Уступите дорогу только автобусу.**



76. Обязаны ли Вы уступить дорогу автомобилю «Скорой медицинской помощи» с выключенным проблесковым маячком?
- **Нет.**







77.

Кто первым проедет перекресток, если все намерены двигаться прямо?

• **Правила эту ситуацию не регламентируют. Водители должны определить очередность по договоренности.**



78.

Кто из водителей нарушает правила разворота на автомагистрали?

• **Только водитель легкового автомобиля.**



79.

Вы намерены проехать перекресток в прямом направлении. Ваши действия?

• **Уступите дорогу автомобилю с включенными проблесковым маячком и специальным звуковым сигналом.**





80.

Как в данной ситуации должен поступить водитель легкового автомобиля при приближении автомобиля оперативной службы, сопровождающего колонну?

- **Перестроиться на правую полосу и продолжить движение.**



81.

Как Вы должны поступить в данной ситуации?

- **Снизить скорость и быть готовым в случае необходимости незамедлительно остановиться.**



82.

Вы намерены проехать перекресток в прямом направлении. Ваши действия?

- **Уступите дорогу только автомобилю с включенными проблесковым маячком и специальным звуковым сигналом.**





83.

Как в данной ситуации должен поступить водитель легкового автомобиля при приближении автомобиля оперативной службы?

- **Перестроиться на правую полосу и продолжить движение.**

84. В каком случае Вам запрещается выполнять обгон транспортного средства, имеющего нанесенные на наружные поверхности специальные цветографические схемы?

- **При включении на нем проблесковых маячков синего (синего и красного) цвета и специального звукового сигнала.**

85. В каком случае водитель автомобиля имеет преимущество перед другими участниками движения?

- **Только при включенных проблесковом маячке синего (синего и красного) цвета и специальном звуковом сигнале.**



#### 4. Обязанности пешеходов



86.

Кто из водителей должен уступить дорогу пешеходам?

- **Оба водителя.**



## 6. Сигналы светофора и регулировщика



87. Ваши действия в данной ситуации?
- Проехать переезд.



88. Как следует поступить в этой ситуации, если Вам необходимо повернуть направо?
- Можно повернуть направо, уступив дорогу пешеходам.



89. В каких направлениях регулировщик разрешает Вам движение?
- Только прямо и направо.





90. Вы намерены повернуть налево. Кому следует уступить дорогу?
- **Автомобилю и трамваю.**



91. Вы намерены повернуть налево. Ваши действия?
- **Уступите дорогу трамваю и, убедившись, что Ваши пути не пересекаются со встречным автомобилем, выполните поворот.**




92. Разрешено ли Вам за перекрестком въехать на полосу с реверсивным движением?
- **Нет.**



93. В каких направлениях Вам разрешено продолжить движение?
- **Налево и в обратном направлении.**





94.  
Разрешено ли Вам движение?  
• **Запрещено.**



95.  
Вы намерены проехать перекресток в прямом направлении. Ваши действия?  
• **Проедете перекресток первым.**



96.  
Вы намерены повернуть налево. Ваши действия?  
• **Уступите дорогу обоим транспортным средствам.**



97.  
В каком случае Вам не придется уступать дорогу другим участникам движения?  
• **Только если Вы намерены продолжить движение прямо.**





98. Вы намерены повернуть налево. Ваши действия?

- **Выполните маневр без остановки на перекрестке.**



99. Кто из водителей может продолжить движение?

- **Оба водителя.**



100. В каких направлениях Вам разрешено движение?

- **Прямо или направо.**



101. В каких направлениях Вы можете продолжить движение?

- **Только направо в первый проезд.**







102.

Вы были намерены проехать перекресток в прямом направлении. Как следует поступить, если Вы не успели заранее перестроиться на левую полосу?

- **Повернуть направо.**



103.

Каким транспортным средствам разрешено движение прямо?

- **Только грузовому автомобилю.**



104.

Разрешен ли Вам обгон?

- **Не разрешен.**



105.

В каком месте Вам следует остановиться?

- **Перед стоп-линией.**





106.

Вы намерены повернуть налево. Ваши действия?

- **Остановитесь у стоп-линии, дождетесь сигнала регулировщика, разрешающего поворот, и повернете.**



107.

О чем информируют Вас стрелки на зеленом сигнале светофора?

- **Движение направо регулируется дополнительной секцией.**



108.

При таком жесте регулировщика и сигналах светофора Вы должны:

- **Остановиться у стоп-линии.**





109.

Как Вы должны действовать, если Вам необходимо повернуть налево?

- **Выехать за стоп-линию и остановиться на перекрестке, чтобы уступить дорогу встречному автомобилю.**



110.

Вы намерены повернуть направо. Ваши действия?

- **Уступите дорогу обоим трамваям.**



111.

Кто должен уступить дорогу?

- **Водитель трамвая.**



112.

Вы намерены повернуть налево. Ваши действия?

- **Уступите дорогу только автобусу.**





113.  
В каких направлениях Вы можете продолжить движение?
- **Только направо.**



114.  
Разрешено ли Вам повернуть направо?
- **Да, уступив дорогу пешеходам.**



115.  
На какие транспортные средства распространяются сигналы такого светофора?
- **На трамваи, а также другие маршрутные транспортные средства, движущиеся по выделенной для них полосе.**



116.  
В каких направлениях Вам разрешено движение?
- **Только прямо, налево и в обратном направлении.**





117.

Вы намерены повернуть налево. Ваши действия?


• **Выехав на перекресток, остановитесь у стоп-линии и, дождавшись зеленого сигнала светофора на разделительной полосе, завершите маневр.**



118.

Вы намерены повернуть направо. Следует ли уступить дорогу легковому автомобилю?

• **Нет.**



119.

В каком месте Вам следует остановиться?

• **Перед светофором.**



120.

Вы намерены проехать перекресток в прямом направлении. Ваши действия?

• **Уступите дорогу трамваю.**





121.

Кто из водителей, совершающих поворот, нарушает Правила?

- Оба нарушают.



122.

Разрешено ли Вам движение?

- Запрещено.



123.

Вы намерены повернуть направо. Ваши действия?

- Проедете перекресток первым.



124.

Должны ли Вы остановиться по требованию регулировщика в указанном им месте?

- Да.





125. Вы намерены повернуть направо. Ваши действия?
- Уступите дорогу обоим трамваям.



126. Вы намерены развернуться. Ваши действия?
- Произведете разворот, уступив дорогу легковому автомобилю.

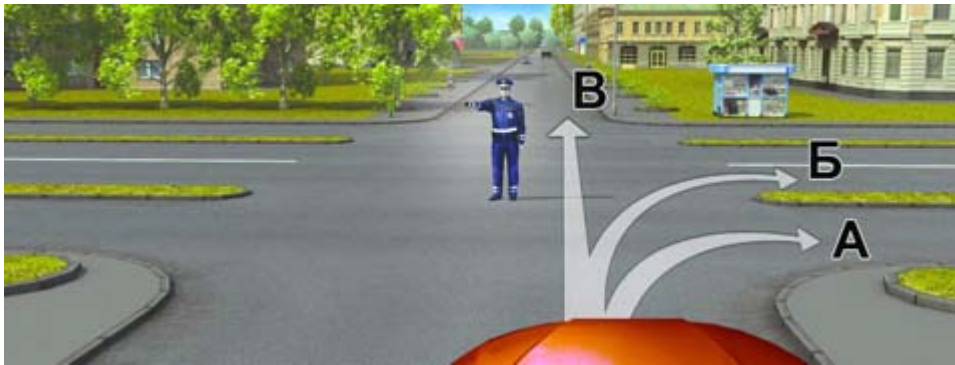


127. В каком случае Вы имеете право выехать на перекресток, если за ним образовался затор?
- Только если Вы намерены совершить поворот или разворот.



128. Можете ли Вы обогнать грузовой автомобиль?
- Нет.





129.

В каких направлениях Вам разрешено движение?

- **Только А.**



130.

Вы намерены повернуть налево. Кому следует уступить дорогу?

- **Обоим транспортным средствам.**



131.

Вы намерены проехать перекресток в прямом направлении. Ваши действия?

- **Проедете перекресток первым.**



132.

О чем информирует Вас сигнал светофора в виде стрелки красного цвета?

- **При включении зеленого сигнала светофора движение будет разрешено только направо.**







133.

Вы намерены повернуть налево. Кому следует уступить дорогу?

- **Автобусу и пешеходам.**



134.

При движении прямо Вы:

- **Можете продолжить движение через перекресток без остановки.**



135.

В каких направлениях Вам разрешено движение?

- **Во всех.**



136.

Вы намерены повернуть направо. Ваши действия?

- **Проедете перекресток первым.**





137.

Вы намерены повернуть налево. Ваши действия?

- **Проедете перекресток первым.**



138.

Вы намерены проехать перекресток в прямом направлении. Ваши действия?

- **Уступите дорогу только трамваю.**

139. Значения каких дорожных знаков отменяются сигналами светофора?

- **Знаков приоритета.**

140. Какое значение имеет сигнал свистком, подаваемый регулировщиком?

- **Сигнал подается для привлечения внимания участников движения.**

141. Красный мигающий сигнал или два попеременно мигающих красных сигнала светофора, установленного на железнодорожном переезде, означают:

- **Движение запрещено.**

142. Разрешается ли Вам продолжить движение, если при включении желтого сигнала светофора после зеленого Вы можете остановиться перед перекрестком, только применив экстренное торможение?

- **Разрешается.**

143. Разрешается ли Вам продолжить движение, если регулировщик поднял руку вверх после того, как Вы въехали на перекресток?

- **Разрешается.**

144. Чем Вы должны руководствоваться, если указания регулировщика противоречат сигналам светофора и значениям дорожных знаков?

- **Указаниями регулировщика.**

145. Что означает мигание желтого сигнала светофора?

- **Разрешает движение и информирует о наличии нерегулируемого перекрестка или пешеходного перехода.**



146. Что означает мигание зеленого сигнала светофора?

• **Разрешает движение и информирует о том, что вскоре будет включен запрещающий сигнал.**

147. Что означает сочетание красного и желтого сигналов светофора?

• **Вскоре будет включен зеленый сигнал.**

oltest.ru



## 7. Применение аварийной сигнализации



148.

На каком расстоянии от транспортного средства должен быть выставлен знак аварийной остановки в данной ситуации?

- Не менее 30 м.



149.

Нарушил ли водитель Правила при вынужденной остановке на автомагистрали?

- Да, если не выставил знак аварийной остановки.



150.

На каком расстоянии от транспортного средства должен быть выставлен знак аварийной остановки в данной ситуации?

- Не менее 15 м.





**А**



**Б**



**В**

151.

Какой знак используется для обозначения автомобиля при вынужденной остановке в местах, где с учетом условий видимости транспортное средство не может быть своевременно замечено другими водителями?

- **А.**



152.

Должен ли в этой ситуации водитель, остановившийся из-за неисправности, выставить знак аварийной остановки?

- **Должен во всех случаях.**

153. В каких случаях на буксируемом механическом транспортном средстве должна быть включена аварийная сигнализация?

- **Во всех случаях, когда осуществляется буксировка.**

154. Как Вы должны обозначить свое транспортное средство при дорожно-транспортном происшествии?

- **Обоими перечисленными способами.**

155. Какие внешние световые приборы должны быть включены при посадке детей в транспортное средство, имеющее опознавательные знаки «Перевозка детей», и высадке из него?

- **Аварийная сигнализация.**



## 8. Начало движения, маневрирование



156.

Кто должен уступить дорогу?

- **Водитель грузового автомобиля.**



157.

В каких направлениях Вам разрешено движение?

- **Только прямо.**



158.

Можете ли Вы развернуться в этом месте?

- **Да.**





159.

Разрешено ли водителю подъехать задним ходом к пассажиру, стоящему на мосту?


• **Нет.**



160.

Разрешено ли водителю легкового автомобиля подъехать задним ходом к пассажиру, стоящему на тротуаре в тоннеле?

• **Нет.**



161.

Вы случайно проехали нужный въезд во двор. Разрешено ли Вам в этой ситуации использовать задний ход, чтобы затем повернуть направо?

• **Да.**





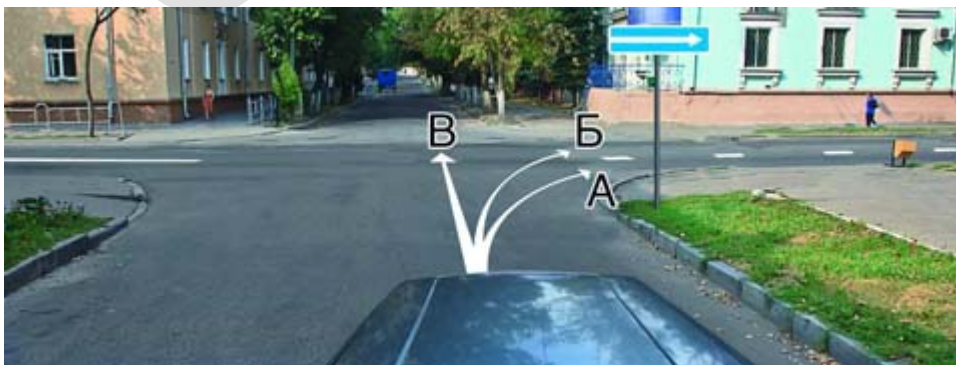
162. Разрешено ли Вам таким образом выполнить разворот на перекрестке?  
• **Нет.**



163. При перестроении на правую полосу Вы:  
• **Должны уступить дорогу всем транспортным средствам, движущимся по соседней полосе.**



164. По какой траектории Вы можете выполнить разворот?  
• **Только по А или В.**



165. По какой траектории Вы можете продолжить движение?  
• **Только по А или В.**







166. Обязаны ли Вы включить сигнал левого поворота в данной ситуации?

- Да.



167. Вы намерены продолжить движение по главной дороге. Обязаны ли Вы при этом включить правые указатели поворота?

- Да.



168. Такой сигнал рукой, подаваемый мотоциклистом, информирует Вас:

- О его намерении снизить скорость, чтобы остановиться и уступить дорогу легковому автомобилю.





169.

Разрешено ли водителю легкового автомобиля подъехать задним ходом к пассажиру, стоящему на автобусной остановке?

- **Запрещено.**



170.

По какой траектории Вы можете выполнить разворот?

- **Только по Б.**



171.

Вы намерены повернуть налево на этом перекрестке. В какой момент Вам следует включить левые указатели поворота?

- **После въезда на первое пересечение проезжих частей.**





172.

В каких направлениях Вам разрешено движение?

- **Только прямо, налево и в обратном направлении.**



173.

Допускается ли выполнить разворот по данной траектории при видимости дороги более 100 м?

- **Да.**



174.

Обязаны ли Вы, двигаясь по правой полосе, уступить дорогу водителю автомобиля, который намерен перестроиться на Вашу полосу?

- **Не обязаны.**

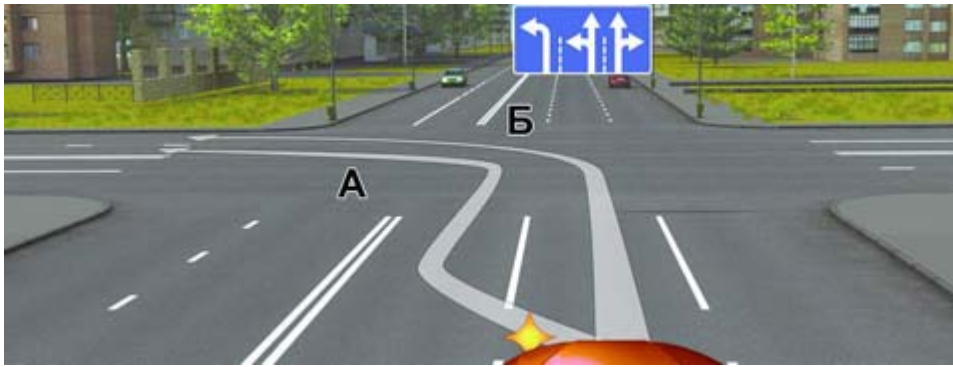


175.

Кому Вы должны уступить дорогу при повороте во двор?

- **Встречному автомобилю и пешеходам.**





176.

По какой траектории Правила разрешают Вам произвести поворот налево?

- По любой.



177.

Разрешается ли Вам выполнить разворот на перекрестке?

- Да.



178.

Вы случайно проехали нужный въезд во двор. Разрешено ли Вам в этой ситуации использовать задний ход, чтобы затем повернуть направо?

- Нет.



179.

По какой траектории Вам разрешено продолжить движение налево?

- По любой.





180. Водитель автомобиля, выполняющий перестроение на правую полосу, в данной ситуации:
- **Не должен создавать помех движущемуся по правой полосе автомобилю.**



181. Должны ли Вы уступить дорогу грузовому автомобилю в данной ситуации?
- **Нет.**



182. Обязаны ли Вы включить правые указатели поворота при въезде на этот перекресток?
- **Да.**



183. По какой траектории Правила разрешают Вам произвести поворот налево?
- **Только по Б.**





184.

Водитель какого автомобиля, поворачивая налево, не нарушает Правила?

- **Только грузового.**



185.

Водитель легкового автомобиля в данной ситуации:

- **Должен уступить дорогу грузовому автомобилю, так как выезжает с полосы разгона.**



186.

Вытянутая рука водителя стоящего легкового автомобиля является предупредительным сигналом, информирующим Вас:

- **О его намерении начать движение.**





187. Вы собираетесь начать движение от тротуара. Должны ли Вы уступить дорогу автомобилю, выполняющему разворот?
- **Да.**



188. По какой траектории Правила разрешают Вам произвести поворот налево?
- **Только по Б.**



189. Может ли водитель легкового автомобиля в данной ситуации начать движение?
- **Да, если он не создаст помех грузовому автомобилю.**



190. Кто должен уступить дорогу при взаимном перестроении?
- **Водитель грузового автомобиля.**





191.

Вы намерены развернуться. Ваши действия?


- Произведете разворот, уступив дорогу легковому автомобилю.



192.

Разрешен ли Вам поворот направо в данной ситуации?

- Нет.



193.

Разрешен ли Вам разворот в указанном месте?

- Разрешен.



194.

Обязаны ли Вы в данной ситуации включить левые указатели поворота?

- Да.







195.

Вы намерены продолжить движение по главной дороге. Обязаны ли Вы включить левые указатели поворота?

- **Да.**



196.

Обязаны ли Вы в данной ситуации подать сигнал правого поворота?

- **Нет.**



197.

С какой полосы Вы можете въехать на данный перекресток?

- **С правой или левой.**



198.

Въезжая во двор, Вы обязаны уступить дорогу:

- **Пешеходам и велосипедисту.**






199.

Разрешается ли Вам на узкой проезжей части произвести разворот с заездом во двор?

- Да, если не будут созданы помехи другим участникам движения.



200.

По какой траектории Вы можете выполнить разворот?

- Только по А.



201.

По какой траектории Правила разрешают Вам произвести поворот налево?

- Только по Б.



202.

По какой траектории Вы можете выполнить поворот направо?

- Только по А.





203.

Такой сигнал рукой, подаваемый мотоциклистом, информирует Вас:


- **О его намерении повернуть налево или выполнить разворот.**



204.

В каких направлениях Вы можете продолжить движение по второй полосе?

- **Только налево и в обратном направлении.**



205.

Обязаны ли Вы включить указатели поворота в данной ситуации?

- **Да.**



206.

Разрешен ли Вам разворот в указанном месте?

- **Разрешен только при видимости дороги более 100 м.**





207.

Поднятая вверх рука водителя легкового автомобиля является сигналом, информирующим Вас:

- **О его намерении снизить скорость, чтобы остановиться и уступить дорогу мотоциклисту.**



208.

Как Вы должны действовать, если Вам необходимо повернуть налево?

- **Выехать за стоп-линию и остановиться на перекрестке, чтобы уступить дорогу встречному автомобилю.**



209.

Разрешен ли Вам разворот в этом месте?

- **Не разрешен.**



210.

Съезжая с дороги на прилегающую справа территорию, Вы:

- **Должны уступить дорогу пешеходам и велосипедисту.**





211.

В данной ситуации для того, чтобы продолжить движение в прямом направлении, Вам разрешается:

- **Разрешается любое из перечисленных действий.**



212.

Обязаны ли Вы, двигаясь по левой полосе, уступить дорогу водителю автомобиля, который намерен перестроиться на Вашу полосу?

- **Не обязаны.**



213.

По какой траектории Правила разрешают Вам произвести поворот налево?

- **Только по А.**



214.

Водитель легкового автомобиля должен выключить левые указатели поворота:

- **Сразу же после перестроения на левую полосу.**





215. Разрешено ли Вам на перекрестке произвести разворот указанным способом?  
• **Нет.**



216. Разрешается ли Вам, управляя легковым автомобилем, продолжить движение по трамвайным путям попутного направления?  
• **Запрещается.**



217. Вы намерены произвести разворот на перекрестке. Какие указатели поворота необходимо включить при въезде на перекресток?  
• **Правые.**





218.

В каких направлениях Вы можете продолжить движение по второй полосе на легковом автомобиле?

- **Прямо, налево и в обратном направлении.**



219.

Вам необходимо повернуть на примыкающую справа дорогу. Ваши действия?

- **Не меняя скорости, перестроиться на полосу торможения, снизить скорость, затем приступить к повороту.**



220.

Кто нарушает правила поворота на перекрестке?

- **Оба нарушают.**



221.

Разрешен ли Вам разворот на указанном участке дороги?

- **Разрешен только при видимости дороги более 100 м.**





222.

По какой траектории Правила разрешают Вам произвести поворот налево?

- По любой.



223.

Вы намерены повернуть направо. Ваши действия?

- Проедете перекресток первым.



224.

Кто имеет преимущество в движении?

- Водитель грузового автомобиля.



225.

Какие указатели поворота Вы обязаны включить при выполнении разворота по такой траектории?

- Сначала правые, а при движении от тротуара - левые.







226.

По какой траектории Вы можете выполнить правый поворот?

- **Только по А.**



227.

Разрешен ли Вам разворот на указанном участке дороги?

- **Разрешен только при видимости дороги более 100 м.**



228.

Разрешен ли Вам разворот на этом участке дороги?

- **Разрешен только при видимости дороги более 100 м.**



229.

Разрешен ли Вам поворот направо по указанной траектории в данной ситуации?

- **Да.**





230.

В данной ситуации Вы:


- **Имеете право проехать первым.**



231.

Разрешено ли водителю движение задним ходом при отсутствии других участников движения?

- **Разрешено, но только до пешеходного перехода.**



232.

Кто должен уступить дорогу?

- **Водитель, намеревающийся начать движение от тротуара.**



233.

Такой сигнал рукой, подаваемый мотоциклистом, движущимся по левой полосе информирует:

- **О его намерении повернуть направо.**





234. По какой траектории Вам разрешено продолжить движение налево?  
• По любой.



235. Водитель какого транспортного средства нарушает Правила?  
• Только легкового автомобиля.



236. Кто должен уступить дорогу при одновременном развороте?  
• Водитель автобуса.



237. Разрешено ли Вам выполнить разворот на данном перекрестке?  
• Да.






238.

Вы случайно проехали поворот на перекрестке. Разрешено ли Вам в этой ситуации использовать задний ход, чтобы затем продолжить движение налево?

- **Нет.**



239.

Вы выезжаете с места стоянки одновременно с другим автомобилем. Должны ли Вы уступить дорогу в данной ситуации?

- **Да.**



240.

Вы намерены остановиться слева у тротуара. Следует ли в данной ситуации включать указатели поворота?

- **Да.**





241.

Кто обязан уступить дорогу?

- **Водитель легкового автомобиля.**



242.

По какой траектории можно продолжить движение направо на легковом автомобиле?

- **Только по Б.**



243.

По какой траектории Вы можете продолжить движение?

- **Только по А.**



244.

Какую ошибку совершает водитель, въезжающий во двор?

- **Поворачивает, не включив указатели поворота.**





245.

Разрешен ли разворот на данном участке дороги с подъемом?

- **Разрешен только при видимости дороги более 100 м.**



246.

Такой сигнал рукой, подаваемый водителем легкового автомобиля, информирует Вас:

- **О его намерении повернуть налево или выполнить разворот.**



247.

Разрешен ли Вам такой маневр на мосту?

- **Не разрешен.**



248.

Обязаны ли Вы в данной ситуации включить сигнал правого поворота?

- **Да.**





249. Разрешен ли Вам разворот в этом месте?

- **Не разрешен.**



250. Вы намерены повернуть на перекрестке направо. Как Вам следует поступить?

- **Возможны оба способа.**



251. Двигаясь по левой полосе, Вы намерены перестроиться на правую. На каком из рисунков показана ситуация, в которой Вы обязаны уступить дорогу?

- **На обоих.**



252. В каких направлениях Вам разрешено продолжить движение?

- **Только налево.**





253.

Кто должен уступить дорогу при одновременном перестроении?

- **Водитель легкового автомобиля.**



254.

Согнутая в локте рука водителя автомобиля является сигналом, информирующим Вас:

- **О его намерении повернуть направо.**



255.

Вы приняли решение остановиться сразу же после перекрестка. Когда необходимо включить правые указатели поворота?

- **Только после въезда на перекресток.**

256. В каких местах водителю разрешается движение задним ходом?

- **На дорогах с односторонним движением.**

257. В каких случаях Вы не должны подавать предупредительный сигнал указателями поворота?

- **Только если сигнал может ввести в заблуждение других участников движения.**

258. Выезжая с прилегающей территории, Вы обязаны уступить дорогу:

- **Любым транспортным средствам и пешеходам.**

259. Дает ли Вам преимущество в движении подача сигнала указателями поворота?

- **Нет.**





260. Для обеспечения безопасности при выезде задним ходом с места стоянки, имеющего ограниченную видимость, необходимо:

- **Прибегнуть к помощи других лиц.**

261. Должны ли Вы подавать сигналы указателями поворота при маневрировании на территории автостоянки или АЗС?

- **Да.**

262. Если траектории движения транспортных средств пересекаются, а очередность проезда не оговорена Правилами, Вы должны:

- **Уступить дорогу транспортному средству, приближающемуся справа.**

263. Как Вы должны действовать, если намереваетесь повернуть налево или выполнить разворот на двухполосной дороге?

- **Убедиться, что Вас не обгоняют, затем включить левые указатели поворота и приступить к маневру.**

264. Когда Вы должны включить указатели поворота?

- **Заблаговременно до начала выполнения маневра.**

265. Когда Вы обязаны выключить левые указатели поворота, выполняя обгон?

- **Сразу же после перестроения на встречную полосу.**

266. Когда должна быть прекращена подача сигнала указателями поворота?

- **Сразу же после завершения маневра.**

267. Когда может быть прекращена подача сигнала рукой о повороте?

- **Непосредственно перед началом маневра.**

268. Обязаны ли Вы подавать сигналы указателями поворота при начале движения в жилой зоне, обозначенной соответствующим знаком?

- **Да.**



## 9. Расположение ТС на проезжей части



269.

Проезжая часть данной дороги имеет:

- **Две полосы для движения.**



270.

В каком направлении Вы можете продолжить движение по средней полосе?

- **Налево или в обратном направлении.**



271.

Можете ли Вы после опережения грузового автомобиля продолжить движение по левой полосе?

- **Нет.**





272.

По какой полосе Вам разрешено движение в данной ситуации?

- **Только по правой.**



273.

По каким полосам Правила разрешают Вам движение на этой дороге?

- **Только по правой.**



274.

По какой траектории Вы можете продолжить движение?

- **Только по Б.**



275.

В данной ситуации Вам разрешается:

- **Продолжить движение только после того, как грузовой автомобиль освободит полосу движения.**





276. Разрешается ли Вам обогнать легковой автомобиль по трамвайным путям в данной ситуации?
- **Не разрешается.**



277. Разрешается ли Вам, управляя легковым автомобилем, продолжить движение по трамвайным путям попутного направления?
- **Запрещается.**



278. По какой полосе Вам разрешено движение на легковом автомобиле в данной ситуации?
- **По любой, кроме крайней левой.**



279. Водитель какого автомобиля, поворачивая налево, не нарушает Правила?
- **Только грузового.**





280.

Укажите расстояние, под которым в Правилах подразумевается дистанция:

- **Только Б.**



281.

Сколько полос для движения имеет данная дорога?

- **Четыре.**



282.

Разрешается ли Вам, управляя грузовым автомобилем с разрешенной максимальной массой более 2,5 т, выехать на третью полосу в данной ситуации?

- **Разрешается только для поворота налево или разворота.**



283.

Кто из мотоциклистов занял правильное положение на полосе движения?

- **Оба мотоциклиста.**





284.

По какой полосе Вы можете продолжить движение, завершив опережение вне населенного пункта?


- **Только по правой.**



285.

Можете ли Вы продолжить движение по средней полосе после обгона?

- **Нет.**



286.

По какой полосе Вы можете продолжить движение, опередив грузовой автомобиль в населенном пункте?

- **По любой.**



287.

По какой траектории Вы можете продолжить движение?

- **Только по Б.**





288.

По какой траектории следует двигаться, поворачивая налево?

- **Только по Б.**



289.

Можете ли Вы выехать на крайнюю левую полосу для обгона в данной ситуации?

- **Нет.**



290.

Разрешено ли Вам после опережения первого автомобиля продолжить движение по левой полосе с целью опережения второго?

- **Да.**



291.

Разрешено ли Вам, управляя грузовым автомобилем, совершить опережение в данной ситуации?

- **Да, если разрешенная максимальная масса Вашего автомобиля менее 2,5 т.**





292.

Кто из мотоциклистов занял правильное положение на полосе движения?

- **Оба мотоциклиста.**

293. В каких случаях Вам разрешено выезжать за пределы крайней правой полосы, если Вы управляете транспортным средством, скорость которого не должна превышать 40 км/ч?

- **В обоих перечисленных случаях.**

294. В каких случаях Вы можете наезжать на прерывистые линии разметки, разделяющие проезжую часть на полосы движения?

- **Только при перестроении.**

295. В каких случаях допускается движение автомобилей по тротуарам или пешеходным дорожкам?

- **Только если Вы обслуживаете торговые или другие предприятия, расположенные непосредственно у этих тротуаров или дорожек при отсутствии других возможностей подъезда.**

296. В каких случаях на дорогах, проезжая часть которых разделена линиями разметки, Вы обязаны двигаться строго по полосам?

- **Во всех случаях.**

297. По какой полосе проезжей части Вам разрешено движение в населенном пункте, если по техническим причинам Ваше транспортное средство не может развивать скорость более 40 км/ч?

- **Только по крайней правой.**

298. Разрешается ли Вам использовать для движения трамвайные пути встречного направления?

- **Не разрешается.**





## 10. Скорость движения



299.

С какой скоростью Вы можете продолжить движение в населенном пункте по правой полосе?

- **Не более 60 км/ч.**



300.

С какой максимальной скоростью Вы можете продолжить движение на легковом автомобиле с прицепом?

- **70 км/ч.**



301.

С какой максимальной скоростью Вы можете продолжить движение на легковом автомобиле?

- **110 км/ч.**





302.

С какой скоростью Вы можете продолжить движение в населенном пункте по левой полосе?

- Не менее 50 км/ч и не более 60 км/ч.



303.

С какой скоростью Вы можете продолжить движение вне населенного пункта по левой полосе на легковом автомобиле?

- Не менее 50 км/ч и не более 90 км/ч.



304.

С какой максимальной скоростью Вы можете продолжить движение на легковом автомобиле?

- 90 км/ч.





305.

С какой максимальной скоростью Вы можете продолжить движение, управляя легковым автомобилем?

- **90 км/ч.**



306.

С какой максимальной скоростью Вы можете продолжить движение на легковом автомобиле с прицепом?

- **90 км/ч.**



307.

С какой максимальной скоростью Вы можете продолжить движение на грузовом автомобиле с разрешенной максимальной массой менее 3,5 т после въезда на примыкающую слева дорогу?

- **60 км/ч.**





308.

С какой максимальной скоростью Вы можете продолжить движение на грузовом автомобиле с разрешенной максимальной массой менее 3,5 т?

- **90 км/ч.**



309.

С какой максимальной скоростью Вы можете продолжить движение за знаком?

- **20 км/ч.**



310.

С какой скоростью Вы можете двигаться на грузовом автомобиле с разрешенной максимальной массой не более 3,5 т?

- **Не более 90 км/ч.**





311.

С какой максимальной скоростью Вы можете продолжить движение после знака, если Вы буксируете неисправное механическое транспортное средство?

- **50 км/ч.**

312. В каком случае Вы имеете право двигаться в населенном пункте со скоростью более 60 км/ч?

- **Только если установлены дорожные знаки, разрешающие движение со скоростью более 60 км/ч.**

313. В каком случае Вы можете прибегнуть к резкому торможению?

- **Только для предотвращения дорожно-транспортного происшествия.**

314. Разрешается ли Вам двигаться со слишком малой скоростью?

- **Разрешается, если Вы не создадите помех другим транспортным средствам.**

315. С какой максимальной скоростью разрешено движение транспортным средствам в жилых зонах и на дворовых территориях?

- **20 км/ч.**

316. Что должно иметь для Вас решающее значение при выборе скорости движения в плотном потоке транспортных средств?

- **Интенсивность движения.**

317. Что должно иметь для Вас решающее значение при выборе скорости движения в темное время суток?

- **Условия видимости.**



## 11. Обгон, опережение, встречный разъезд



318.

Можете ли Вы начать обгон?

- **Да, если обгон будет завершен до перекрестка.**



319.

Разрешено ли Вам обогнать мотоциклиста?

- **Разрешено.**



320.

Разрешен ли Вам обгон в данной ситуации?

- **Разрешен.**





321.  
Разрешен ли Вам обгон?

- **Нет.**



322.  
Разрешено ли Вам обогнать грузовой автомобиль в конце подъема?

- **Запрещено.**



323.  
Должны ли Вы уступить дорогу встречному автомобилю?

- **Да.**



324.  
Разрешен ли Вам обгон сразу трех транспортных средств после проезда пешеходного перехода?

- **Разрешен.**





325. Какие знаки означают, что Вы должны уступить дорогу, если встречный разъезд затруднен?  
 • **А и В.**



326. В каком месте Вы можете начать обгон?  
 • **Непосредственно за переездом.**



327. Может ли водитель легкового автомобиля в населенном пункте выполнить опережение грузовых автомобилей по такой траектории?  
 • **Да.**



328. Должны ли Вы уступить дорогу встречному грузовому автомобилю?  
 • **Нет.**







329.

Разрешено ли Вам в конце подъема перестроиться на среднюю полосу для опережения грузового автомобиля?

- **Разрешено.**



330.

Разрешено ли Вам совершить такой маневр?

- **Запрещено.**



331.

Разрешено ли Вам обогнать мотоциклиста?

- **Запрещено.**



332.

Разрешен ли Вам обгон?

- **Разрешен.**





333. Разрешен ли Вам обгон в данной ситуации?

- Да, если обгон будет завершен до перекрестка.




334. В данной ситуации Вы:

- Имеете право проехать первым.



335. Разрешено ли Вам начать обгон в населенном пункте?

- Нет.



336. По какой траектории водитель легкового автомобиля может выполнить обгон?

- Только по А.





337.

Можете ли Вы обогнать трактор?

- **Да, если обгон будет завершен за 100 м до переезда.**



338.

Выполняя объезд на подъеме, Вы:

- **Имеете право проехать первым.**



339.

В этой ситуации, двигаясь на спуске, Вы:

- **Должны уступить дорогу.**



340.

Можете ли Вы начать обгон грузового автомобиля в данной ситуации?

- **Нет.**





341.

При затрудненном встречном разъезде на таком участке дороги преимущество имеет:

- **Водитель легкового автомобиля.**



342.

Имеет ли право водитель легкового автомобиля начать обгон?

- **Нет.**

343. В каком случае Вы можете начать обгон, если такой маневр на данном участке дороги не запрещен?

- **В случае, если выполнены оба условия.**

344. Водитель обгоняемого транспортного средства обязан:

- **Двигаться с прежней или меньшей скоростью.**

345. Запрещен ли обгон в тоннелях?

- **Запрещен.**

346. Запрещен ли обгон на мостах, путепроводах, эстакадах и под ними?

- **Запрещен.**

347. Запрещен ли обгон на пешеходном переходе?

- **Запрещен во всех случаях.**

348. Как Вы должны действовать, если намереваетесь повернуть налево или выполнить разворот на двухполосной дороге?

- **Убедиться, что Вас не обгоняют, затем включить левые указатели поворота и приступить к маневру.**

349. Какие ограничения, относящиеся к обгону, действуют на железнодорожных переездах и вблизи них?

- **Обгон запрещен на переезде и на расстоянии 100 м до него.**

350. Какие требования предъявляются к водителю обгоняемого транспортного средства?

- **Он не должен препятствовать обгону путем повышения скорости движения или иными действиями.**



351. Разрешен ли на двухполосной дороге обгон на перекрестках?

- **Разрешен только на перекрестках неравнозначных дорог при движении по главной дороге.**

352. Разрешен ли обгон на подъеме?

- **Запрещен только в конце подъема.**


353. Разрешен ли обгон на регулируемых перекрестках?

- **Запрещен.**

oltest.ru



## 12. Остановка и стоянка



354.

Действие каких знаков не распространяется на транспортные средства, управляемые инвалидами I и II групп, перевозящие таких инвалидов или детей-инвалидов?

- **Только Б и Г.**



355.

Можете ли Вы остановиться для посадки пассажира?

- **Нет.**

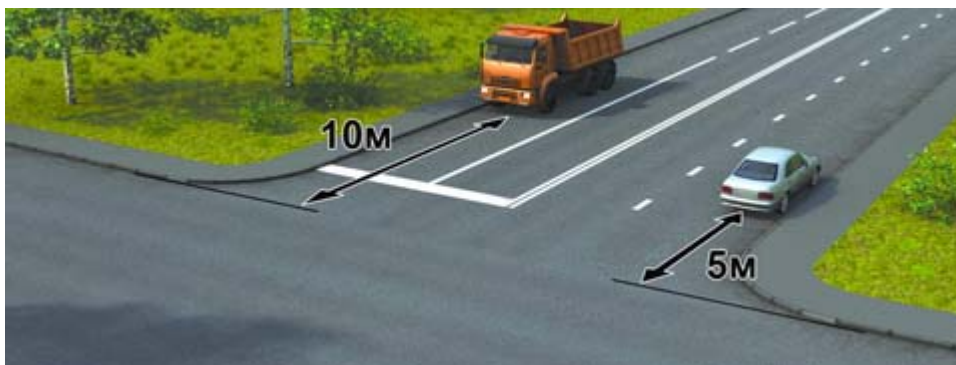


356.

Какие транспортные средства можно поставить на стоянку указанным на табличке способом?

- **Только легковые автомобили и мотоциклы.**





357.

Кто нарушил правила остановки?

- **Только водитель грузового автомобиля.**



358.

Разрешено ли водителю поставить на стоянку грузовой автомобиль с разрешенной максимальной массой менее 3,5 т указанным на табличке способом?

- **Нет.**



359.

В каком из указанных мест Вы можете поставить на стоянку легковой автомобиль?

- **А или В.**



360.

В каком месте на данном участке дороги Вы можете поставить автомобиль на длительную стоянку?

- **Только через 500 м на специальной площадке.**





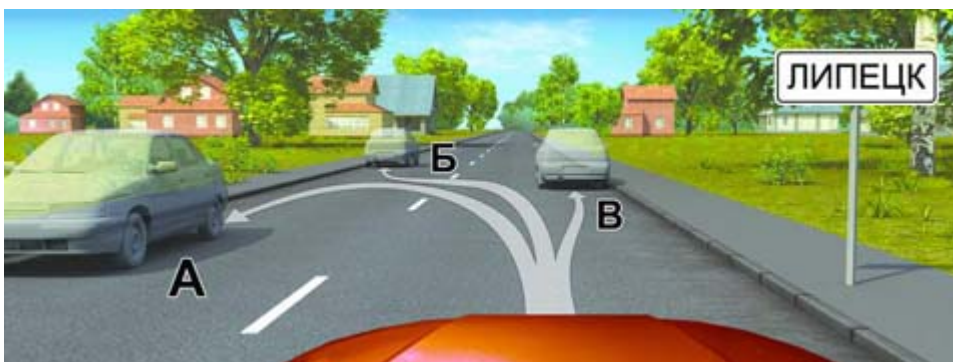
361.  
Кто из водителей нарушил правила остановки?  
• **Оба нарушили.**



362.  
Нарушил ли водитель легкового автомобиля Правила, поставив автомобиль на стоянку указанным способом?  
• **Да.**



363.  
Разрешено ли Вам поставить автомобиль на стоянку в указанном месте?  
• **Да.**



364.  
В каком месте Вы можете произвести остановку?  
• **В любом.**







365.

Разрешено ли водителю поставить грузовой автомобиль на стоянку в этом месте указанным способом?

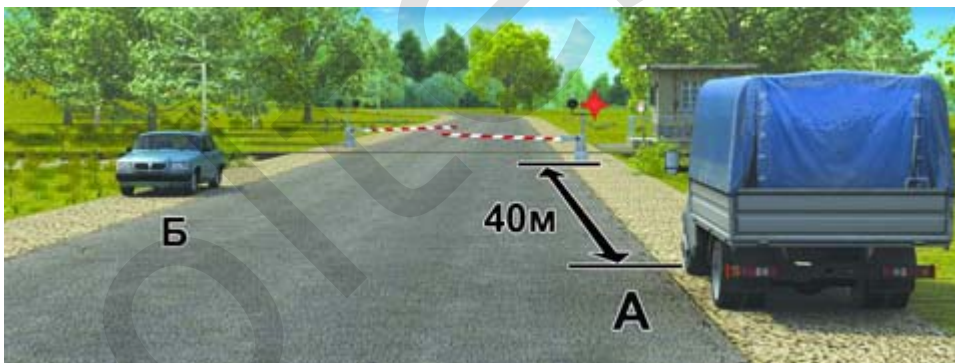
- **Нет.**



366.

Разрешена ли Вам остановка для посадки пассажира в этом месте?

- **Разрешена, если при этом не будет создано помех для движения маршрутных транспортных средств.**



367.

Кто из водителей нарушил правила остановки?

- **Оба не нарушили.**





368. Можете ли Вы остановиться в указанном месте после поворота направо?

• **Да.**




369. Можете ли Вы остановиться на мосту в указанном месте?

• **Да.**



370. В каком из указанных мест Вы можете поставить автомобиль на стоянку?

• **Только Б.**



371. Кто из водителей нарушил правила стоянки?

• **Только водитель автомобиля.**





372. Разрешено ли водителю поставить автомобиль на стоянку в указанном месте?

• **Да.**



373. В каком из указанных мест Вам разрешено поставить автомобиль на стоянку?

• **Только А.**



374. Разрешена ли Вам остановка для высадки пассажиров в указанном месте?

• **Разрешена, если не будет создано помех для движения маршрутных транспортных средств.**



375. Можете ли Вы поставить автомобиль на стоянку в указанном месте?

• **Нет.**





376.

Разрешена ли Вам остановка в указанном месте на перекрестке?

- **Запрещена.**



377.

Разрешено ли Вам поставить автомобиль на стоянку в указанном месте?

- **Запрещено.**



378.

В каком из указанных мест Вы можете остановиться на легковом автомобиле?

- **Только А и Б.**



379.


Кто из водителей нарушил правила остановки?

- **Оба нарушили.**

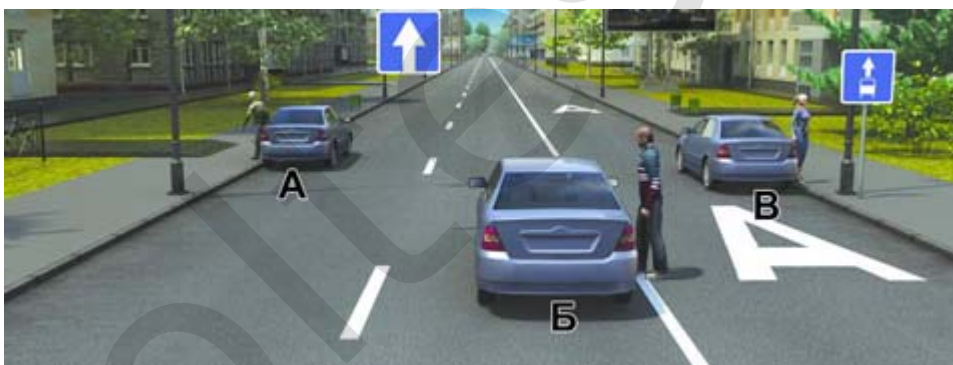





380. Разрешена ли Вам стоянка в указанном месте?  
 • **Разрешена.**



381. В каком из указанных мест Вы можете поставить автомобиль на стоянку?  
 • **Только В.**



382. Кто из водителей правильно остановился для высадки пассажиров?  
 • **Только А.**



383. Разрешена ли водителям остановка в указанных местах?  
 • **Запрещена.**






384.

Разрешено ли Вам поставить автомобиль на стоянку в указанном месте при наличии узкой обочины?

- **Запрещено.**



385.

В каком из указанных мест Вы можете произвести остановку?

- **Только Б.**



386.

Разрешено ли Вам поставить автомобиль на стоянку в указанном месте?

- **Разрешено.**




387.

Можете ли Вы остановиться на мосту для посадки пассажира?

- **Нет.**






388.

Разрешено ли Вам остановиться на легковом автомобиле в указанном месте?

• **Нет.**



389.

Разрешена ли Вам остановка в указанном месте?

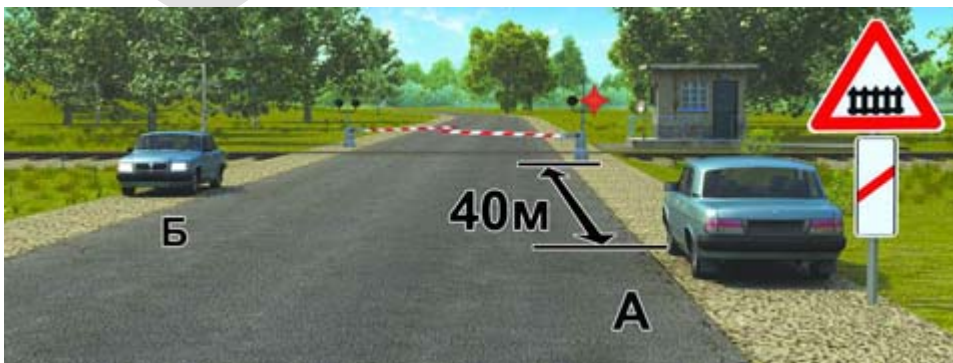
• **Не разрешена.**



390.

По какой траектории Вы можете подъехать к пассажирам?

• **Только по Б.**

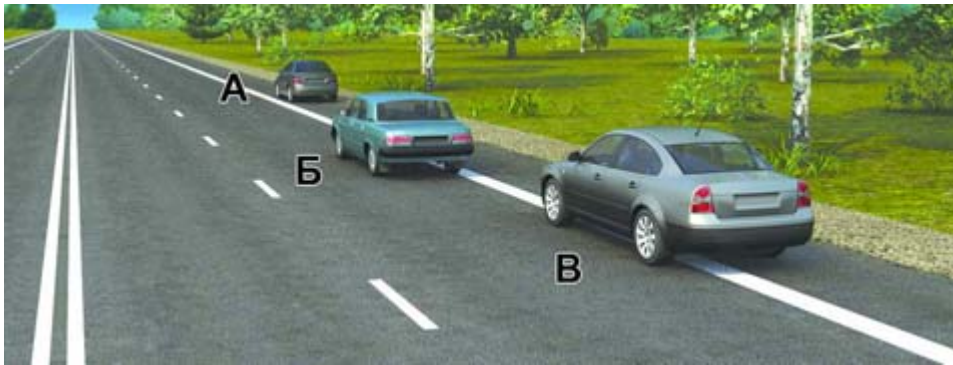


391.

Кто из водителей нарушил правила стоянки?

• **Оба нарушили.**





392.  
Водитель какого автомобиля нарушил правила остановки?  
• **Только Б и В.**



393.  
Кто из водителей нарушил правила стоянки?  
• **Никто не нарушил.**



394.  
Кто из водителей нарушил правила стоянки?  
• **Только Б.**



395.  
Разрешено ли Вам поставить автомобиль на стоянку в указанном месте?  
• **Запрещено.**







396.

Разрешена ли Вам остановка в указанных местах?

- **Разрешена только в Б.**



397.

Нарушил ли водитель грузового автомобиля с разрешенной максимальной массой не более 3,5 т правила стоянки в данной ситуации?

- **Да.**



398.

В каком из указанных мест Вы можете остановиться?

- **Только В.**

399. Где разрешается стоянка в целях длительного отдыха или ночлега на дорогах вне населенного пункта?

- **Только на предусмотренных для этого площадках или за пределами дороги.**



### 13. Проезд перекрестков



400.

Вы намерены повернуть налево. Кому следует уступить дорогу?

- **Никому.**



401.

В каком случае Вы имеете право выехать на перекресток, если за ним образовался затор?

- **Только если Вы намерены совершить поворот или разворот.**



402.

Вы намерены повернуть налево. Кому следует уступить дорогу?

- **Никому.**





403. Намереваясь продолжить движение прямо, Вы должны:
- Уступить дорогу трамваю.



404. Поворачивая направо, Вы должны:
- Проехать перекресток первым.



405. Намереваясь продолжить движение в прямом направлении, Вы должны:
- Проехать перекресток первым.



406. Вы намерены проехать перекресток в прямом направлении. Ваши действия?
- Уступите дорогу только трамваю.






407.

Вы намерены повернуть налево. Ваши действия?

- Уступите дорогу трамваю и, убедившись, что Ваши пути не пересекаются со встречным автомобилем, выполните поворот.



408.

Вы намерены продолжить движение прямо. Кому следует уступить дорогу?

- Обоим транспортным средствам.



409.

При движении прямо Вы:

- Должны уступить дорогу только мотоциклу.



410.

Вы намерены повернуть налево. Кому следует уступить дорогу?

- Никому.





411.

Вы намерены повернуть налево. Ваши действия?

- Уступите дорогу обоим транспортным средствам.



412.

Вы намерены повернуть налево. Ваши действия?

- Проедете перекресток первым.



413.

Вы обязаны уступить дорогу пешеходам:

- В обоих случаях.



414.

При повороте направо Вы должны уступить дорогу:

- Пешеходам и велосипедистам.





415.

Как Вы должны действовать, если Вам необходимо повернуть налево?

- **Выехать за стоп-линию и остановиться на перекрестке, чтобы уступить дорогу встречному автомобилю.**



416.

Следует ли при движении прямо уступить дорогу трамваю?

- **Да.**



417.

Вы намерены повернуть направо. Ваши действия?

- **Уступите дорогу обоим трамваям.**



418.

При повороте налево Вы должны:

- **Уступить дорогу легковому автомобилю.**





419.

Вы намерены повернуть налево. Кому следует уступить дорогу?


- **Обоим транспортным средствам.**



420.

Вы намерены продолжить движение по перекрестку с круговым движением. Следует ли уступить дорогу грузовому автомобилю?

- **Да.**



421.

Вы намерены повернуть налево. Ваши действия?

- **Уступите дорогу только легковому автомобилю.**



422.

Вы намерены повернуть налево. Ваши действия?

- **Проедете перекресток первым.**





423.

Вы намерены проехать перекресток в прямом направлении. Ваши действия?


- **Продолжите движение, не создавая помех легковому автомобилю.**



424.

Вы намерены повернуть налево. Кому следует уступить дорогу?

- **Только легковому автомобилю и автобусу.**



425.

Намереваясь повернуть налево, Вы должны:

- **Уступить дорогу грузовому автомобилю.**




426.

Вы намерены проехать перекресток в прямом направлении. Ваши действия?

- **Уступите дорогу только автомобилю с включенными проблесковым маячком и специальным звуковым сигналом.**







427. Вы намерены развернуться. Кому Вы должны уступить дорогу?
- **Только грузовому автомобилю.**



428. Вы намерены повернуть налево. Кому следует уступить дорогу?
- **Только трамваю А.**



429. Вы намерены проехать перекресток в прямом направлении. Кому следует уступить дорогу?
- **Обоим транспортным средствам.**



430. Вы намерены повернуть налево. Ваши действия?
- **Уступите дорогу трамваю.**





431. Вы намерены повернуть налево. Ваши действия?
- Проедете перекресток первым.



432. Вы намерены продолжить движение прямо. При желтом мигающем сигнале светофора Вы должны:
- Проехать перекресток первым.



433. Такой сигнал рукой, подаваемый мотоциклистом, информирует Вас:
- О его намерении снизить скорость, чтобы остановиться и уступить дорогу легковому автомобилю.






434.

Вы намерены повернуть направо. Ваши действия?

- **Выехав на перекресток, остановитесь перед пешеходным переходом, чтобы пропустить пешеходов.**



435.

Вы намерены продолжить движение прямо. Кому следует уступить дорогу?

- **Только автобусу и легковому автомобилю.**



436.

При повороте налево во второй проезд Вы:

- **Должны уступить дорогу только автобусу.**



437.

Вы намерены повернуть направо. Ваши действия?

- **Проедете перекресток первым.**







438.  
Разрешено ли Вам обогнать мотоциклиста?  
• **Запрещено.**



439.  
Вы намерены повернуть направо. Ваши действия?  
• **Уступите дорогу всем пешеходам.**



440.  
Вы намерены продолжить движение прямо. Кому следует уступить дорогу?  
• **Только легковому автомобилю.**



441.  
Вы намерены повернуть налево. Кому следует уступить дорогу?  
• **Трамваю Б и легковому автомобилю.**





442. Вы намерены повернуть направо. Следует ли уступить дорогу автобусу?  
• **Да.**



443. Вы намерены повернуть налево. Ваши действия?  
• **Выедете на перекресток и, уступив дорогу мотоциклу, завершите поворот.**



444. В каком случае Вам не придется уступать дорогу другим участникам движения?  
• **Только если Вы намерены продолжить движение прямо.**



445. Обязан ли мотоциклист уступить Вам дорогу в данной ситуации?  
• **Да.**





446.

Намереваясь продолжить движение в прямом направлении, Вы должны:

- Пропустить автомобиль с включенными проблесковым маячком и специальным звуковым сигналом.



447.

При включении зеленого сигнала светофора Вы должны:

- Уступить дорогу грузовому автомобилю, завершающему разворот на перекрестке.



448.

Вы намерены повернуть налево. Кому следует уступить дорогу?

- Автобусу и пешеходам.





449.

Вы намерены повернуть налево. Ваши действия?

- **Выехав на перекресток, остановитесь у стоп-линии и, дождавшись зеленого сигнала светофора на разделительной полосе, завершите маневр.**



450.

При желтом мигающем сигнале светофора, двигаясь прямо, Вы должны:

- **Уступить дорогу гужевой повозке.**



451.

Вы намерены повернуть налево. Кому следует уступить дорогу?

- **Никому.**





452.

Вы намерены проехать перекресток в прямом направлении. Должны ли Вы уступить дорогу грузовому автомобилю?

- **Да.**



453.

Вы намерены продолжить движение прямо. Кому следует уступить дорогу?

- **Никому.**



454.

Вы намерены повернуть направо. Можете ли Вы приступить к повороту?

- **Да, но не создавая помех грузовому автомобилю.**



455.

Вы намерены проехать перекресток в прямом направлении. Ваши действия?

- **Убедитесь, что легковой автомобиль уступает дорогу, и проедете перекресток первым.**







456.

Вы намерены повернуть налево. Ваши действия?


- Уступите дорогу обоим грузовым автомобилям.



457.

Вы намерены проехать перекресток в прямом направлении. Ваши действия?

- Уступите дорогу трамваю.



458.

Вы намерены повернуть направо. Можете ли Вы приступить к повороту?

- Да, после того, как грузовой автомобиль начнет поворот.



459.

Вы намерены продолжить движение прямо. Ваши действия?

- Уступите дорогу грузовому автомобилю.





460.

Вы намерены проехать перекресток в прямом направлении. Кому следует уступить дорогу?

- **Обоим трамваям.**



461.

Поворачивая налево, Вы должны:

- **Проехать перекресток первым.**



462.

Должны ли Вы при движении прямо уступить дорогу трамваю?

- **Да.**



463.

Вы намерены повернуть налево. Кому следует уступить дорогу?

- **Обоим транспортным средствам.**





464.

При движении прямо Вы:

- Можете продолжить движение через перекресток без остановки.



465.

Вы намерены повернуть налево. Следует ли уступить дорогу грузовому автомобилю?

- Да.



466.

Вы намерены продолжить движение прямо. Кому следует уступить дорогу?

- Всем транспортным средствам.



467.

При повороте направо Вы должны уступить дорогу:

- Пешеходам и велосипедисту.





468. Вы намерены повернуть налево. Ваши действия?  
• Уступите дорогу только автобусу.



469. Вы имеете право выехать на перекресток, если за ним образовался затор:  
• Только если Вы намерены совершить поворот или разворот.



470. Вы намерены повернуть налево. Кому следует уступить дорогу?  
• Только автомобилю с включенными проблесковым маячком и специальным звуковым сигналом.



471. Вы намерены повернуть направо. Ваши действия?  
• Уступите дорогу обоим трамваям.





472.

Вы намерены повернуть налево. Ваши действия?

- **Выполните маневр без остановки на перекрестке.**



473.

Должен ли водитель легкового автомобиля при развороте уступить дорогу автобусу?

- **Нет.**



474.

Этот дорожный знак:

- **Предупреждает о приближении к месту пересечения с трамвайной линией.**



475.

Вы намерены повернуть налево. Кому следует уступить дорогу?

- **Обоим транспортным средствам.**





476.

Вы намерены проехать перекресток в прямом направлении. Кому следует уступить дорогу?

- **Только трамваю.**



477.

Разрешено ли Вам повернуть направо?

- **Да, уступив дорогу пешеходам.**



478.

При включении зеленого сигнала светофора Вы должны:

- **Убедиться в отсутствии пешеходов, завершающих переход проезжей части, после чего начать движение.**



479.

Вы намерены продолжить движение прямо. Кому следует уступить дорогу?

- **Обоим транспортным средствам.**





480.

При въезде на перекресток Вы:


- **Имеете преимущественное право на движение.**



481.

Следует ли при движении прямо уступить дорогу трамваю?

- **Да.**



482.

Вы намерены проехать перекресток в прямом направлении. Должны ли Вы уступить дорогу встречному автомобилю с включенным проблесковым маячком?

- **Нет.**



483.

Вы намерены повернуть налево. Кому следует уступить дорогу?

- **Встречному автомобилю и пешеходам.**





484. Вы намерены повернуть направо. Следует ли уступить дорогу легковому автомобилю?  
 • **Нет.**



485. Этот знак предупреждает о приближении к перекрестку, на котором Вы:  
 • **Должны уступить дорогу только транспортным средствам, приближающимся справа.**



486. Вы намерены проехать перекресток в прямом направлении. Кому следует уступить дорогу?  
 • **Обоим трамваям.**



487. Как следует поступить в этой ситуации, если Вам необходимо повернуть направо?  
 • **Можно повернуть направо, уступив дорогу пешеходам.**







488. Вы намерены продолжить движение в прямом направлении. Следует ли Вам уступить дорогу грузовому автомобилю?

- **Да.**



489. Кто из водителей должен уступить дорогу пешеходам?

- **Оба водителя.**



490. Вы намерены повернуть налево. Кому следует уступить дорогу?

- **Только легковому автомобилю.**



491. Вы намерены повернуть налево. Ваши действия?

- **Уступите дорогу пешеходам.**





492.

Вы намерены развернуться. Ваши действия?

- **Выедете на перекресток и, уступив дорогу автомобилю, завершите разворот.**



493.

Вы намерены повернуть направо. Следует ли уступить дорогу автомобилю, выполняющему разворот?

- **Да.**



494.

Намереваясь продолжить движение в прямом направлении, Вы должны:

- **Уступить дорогу грузовому автомобилю.**



495.

Вы намерены развернуться. Ваши действия?

- **Уступите дорогу только легковому автомобилю и развернетесь.**





496. Вы намерены повернуть направо. Ваши действия?
- Проедете перекресток первым.



497. Эти знаки, установленные перед перекрестком, означают, что:
- Находясь на таком перекрестке, Вы будете иметь преимущество перед всеми ТС, въезжающими на него.



498. Вы намерены проехать перекресток в прямом направлении. Следует ли уступить дорогу грузовому автомобилю, выезжающему с грунтовой дороги?
- Нет.





499.

Кто должен уступить дорогу?

- **Водитель трамвая.**



500.

Вы намерены продолжить движение в прямом направлении. Ваши действия?

- **Продолжите движение только после выезда на перекресток легкового автомобиля.**



501.

Вы намерены повернуть налево. Кому следует уступить дорогу?

- **Обоим транспортным средствам.**



502.

Намереваясь продолжить движение в прямом направлении, Вы должны:

- **Уступить дорогу только трамваю.**





503. Вы намерены повернуть налево. Кому следует уступить дорогу?
- **Автомобилю и трамваю.**



504. Вы намерены повернуть налево. Кому Вы должны уступить дорогу?
- **Обоим транспортным средствам.**



505. Вы намерены продолжить движение прямо. Кому следует уступить дорогу?
- **Трамваю и легковому автомобилю.**

506. Значения каких дорожных знаков отменяются сигналами светофора?
- **Знаков приоритета.**

507. Разрешается ли Вам продолжить движение, если регулировщик поднял руку вверх после того, как Вы въехали на перекресток?
- **Разрешается.**



## 14. Пешеходные переходы и остановки



508.

Вы намерены повернуть направо. Ваши действия?

- **Уступите дорогу всем пешеходам.**

509. В каких случаях водитель транспортного средства, приближающийся к нерегулируемому пешеходному переходу, обязан снизить скорость или остановиться перед переходом?

- **В обоих перечисленных случаях.**

510. В каком случае Вы можете продолжить движение, приближаясь к остановившемуся транспортному средству, закрывающему видимость нерегулируемого пешеходного перехода?

- **Только убедившись, что перед остановившимся транспортным средством нет пешеходов.**

511. Как Вы должны поступить, если сразу за пешеходным переходом образовался затор?

- **Остановиться непосредственно перед пешеходным переходом.**

512. Подъехав к трамваю попутного направления, остановившемуся у посадочной площадки, расположенной на проезжей части посередине дороги, Вы должны:

- **Уступить дорогу пешеходам, идущим к трамваю или от него.**



## 15. Движение через железнодорожные пути



513.

Как Вы должны действовать в данной ситуации?

- **Остановиться перед знаком и продолжить движение, только убедившись в отсутствии приближающегося поезда.**



514.

В каком месте Вы должны остановиться в данной ситуации?

- **У знака «Движение без остановки запрещено».**



515.

Разрешен ли Вам въезд на железнодорожный переезд?

- **Нет.**





516.

Разрешен ли Вам въезд на железнодорожный переезд в данной ситуации?

- **Нет.**



517.

Разрешено ли Вам проехать железнодорожный переезд?

- **Нет.**



518.

Как Вы должны поступить в данной ситуации?

- **Остановиться и продолжить движение только при открытом шлагбауме.**



519.

Разрешен ли такой маневр?

- **Нет.**







520.

На каком наименьшем расстоянии до ближайшего рельса Вы должны остановиться?

- **10 м.**

521. Как Вы должны поступить с пассажирами при вынужденной остановке на железнодорожном переезде?

- **Немедленно высадить людей.**

522. Сигналом остановки для машиниста поезда служат:

- **Круговое движение рукой.**

oltest.ru



## 16. Движение по автомагистралям



523.

Кто из водителей нарушил правила остановки?

- **Оба нарушили.**



524.

Двигаясь по автомагистрали, Вы можете произвести остановку:

- **Только через 500 м.**



525.

В каком случае на автомагистрали Вам разрешено остановиться правее линии, обозначающей край проезжей части?

- **Только в случае вынужденной остановки.**





**А**



**Б**



**В**

526.

Какие знаки запрещают движение транспортных средств, скорость которых по технической характеристике или их состоянию менее 40 км/ч?

- **А и Б.**



527.

Можно ли обучать вождению на этой дороге?

- **Нельзя.**



528.

Кто из водителей нарушает правила разворота на автомагистрали?

- **Только водитель легкового автомобиля.**



529.

Кто из водителей нарушает Правила?

- **Водители грузового автомобиля и трактора.**





530.

Нарушил ли водитель Правила при вынужденной остановке на автомагистрали?

- **Да, если не выставил знак аварийной остановки.**

531. В каких местах Вам разрешено произвести остановку на автомагистрали?

- **Только на специальных площадках для стоянки, обозначенных соответствующими знаками.**

532. На каких участках автомагистрали запрещается движение задним ходом?

- **На всем протяжении дороги запрещено.**

533. Разрешается ли движение задним ходом по автомагистрали?

- **Запрещается.**

534. Разрешается ли движение по автомагистрали, если Ваше транспортное средство по техническому состоянию развивает скорость менее 40 км/ч?

- **Запрещается.**

535. Разрешается ли учебная езда на автомагистрали?

- **Запрещается.**



## 17. Движение в жилых зонах



536. Должны ли Вы уступить дорогу грузовому автомобилю?

- **Да.**

537. В каких случаях при выезде из жилой зоны Вы должны уступить дорогу транспортным средствам?

- **Во всех случаях.**

538. Где могут двигаться пешеходы в жилой зоне?

- **По тротуарам и по всей ширине проезжей части.**

539. Какие действия запрещены в жилой зоне?

- **Все перечисленные действия.**



### 18. Приоритет маршрутных ТС



**А**



**Б**



**В**

540.

Какие знаки запрещают поворот налево?

- **Только А и В.**



541.

В каких направлениях Вам разрешено продолжить движение на перекрестке?

- **Только прямо, налево и в обратном направлении.**

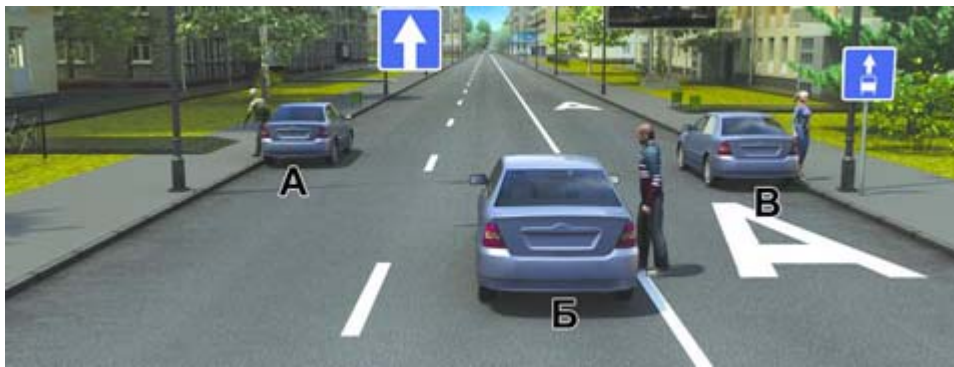


542.

Этот дорожный знак:

- **Предупреждает о приближении к месту пересечения с трамвайной линией.**





543.

Кто из водителей правильно остановился для высадки пассажиров?

- **Только А.**



544.

Кто из водителей должен уступить дорогу трамваю?

- **Никто из водителей.**



545.

Обязаны ли Вы уступить дорогу маршрутному транспортному средству, отъезжающему от тротуара, где нет обозначенного места остановки?

- **Нет.**



546.

Разрешено ли Вам на легковом автомобиле продолжить движение по правой полосе?

- **Запрещено.**





547.

По какой траектории можно продолжить движение направо на легковом автомобиле?

- **Только по Б.**



548.

Разрешена ли Вам остановка в указанном месте?

- **Запрещена.**



549.

В данной ситуации Вы:

- **Должны уступить дорогу автобусу, начинающему движение от обозначенного места остановки.**





## 19. Световые приборы и звуковой сигнал



**А**

**Б**

**В**

550.

В зоне действия каких знаков Правила разрешают подачу звуковых сигналов только для предотвращения дорожно-транспортных происшествий?

- **А и Б.**

551. В каких случаях Вы обязаны включать в светлое время суток фары ближнего света?

- **При движении по любым дорогам.**

552. В каких случаях разрешено применять звуковые сигналы в населенных пунктах?

- **Только для предотвращения дорожно-транспортного происшествия.**

553. Вы можете использовать задние противотуманные фонари:

- **Только в условиях недостаточной видимости.**

554. Вы можете использовать противотуманные фары совместно с ближним или дальним светом фар:

- **В обоих перечисленных случаях.**

555. Двигаясь в темное время суток вне населенного пункта с дальним светом фар, Вы догнали движущееся впереди Вас транспортное средство. Ваши действия?

- **Переключите дальний свет фар на ближний.**

556. Достаточно ли в светлое время суток включения дневных ходовых огней для обозначения транспортного средства при движении в тумане, когда видимость дороги менее 300 м?

- **Недостаточно.**

557. Как Вы должны поступить при ослеплении Вас дальним светом фар встречных или попутно движущихся транспортных средств?

- **Включить аварийную сигнализацию и, не меняя полосы движения, снизить скорость и остановиться.**

558. Как Вы можете в светлое время суток привлечь внимание водителя обгоняемого автомобиля при движении в населенном пункте?

- **Только кратковременным переключением фар с ближнего света на дальний.**

559. Как Вы можете в светлое время суток привлечь внимание водителя обгоняемого автомобиля при движении вне населенного пункта?

- **Любым из перечисленных способов, включая совместную подачу этих сигналов.**

560. Какие внешние световые приборы Вы должны использовать при движении в темное время суток на освещенных участках дорог населенного пункта?

- **Только фары ближнего света.**

561. Какие внешние световые приборы Вы можете использовать при движении в темное время суток на неосвещенных участках дорог?

- **Фары ближнего или дальнего света.**



562. Какие внешние световые приборы должны быть включены в светлое время суток на мотоциклах?

- **Фара ближнего света или противотуманная фара.**

563. Какие внешние световые приборы должны быть включены в тоннеле с искусственным освещением?

- **Фары ближнего или дальнего света.**

564. Какие внешние световые приборы должны быть включены на транспортном средстве при движении в светлое время суток?

- **Любые из перечисленных.**

565. Какие световые приборы Вы обязаны использовать при движении в светлое время суток?

- **Фары ближнего света или дневные ходовые огни.**

566. На каком расстоянии до встречного транспортного средства Вы должны переключить дальний свет фар на ближний?

- **Не менее чем за 150 м.**

567. Обязаны ли Вы переключить дальний свет на ближний, если водитель встречного транспортного средства периодическим переключением света фар покажет необходимость этого?

- **Обязаны, даже если расстояние до встречного транспортного средства более 150 м.**

568. При движении в темное время суток на неосвещенных участках дорог Вы можете использовать противотуманные фары:

- **Только совместно с ближним или дальним светом фар.**

569. При движении в условиях недостаточной видимости Вы можете использовать противотуманные фары:

- **Только совместно с ближним или дальним светом фар.**

570. При остановке и стоянке на неосвещенных участках дорог в темное время суток Вы должны:

- **Включить габаритные огни.**

571. Противотуманные фары и задние противотуманные фонари могут быть включены одновременно:

- **В условиях недостаточной видимости.**

572. Разрешается ли использовать в светлое время суток противотуманные фары вместо ближнего света фар?

- **Разрешается, кроме случаев движения в тоннелях и в условиях недостаточной видимости.**



## 20. Буксировка механических ТС

573. В каких из перечисленных случаев запрещена буксировка на гибкой сцепке?

- **Только в гололедицу.**

574. Какое расстояние должно быть обеспечено между буксирующим и буксируемым транспортными средствами при буксировке на гибкой сцепке?

- **От 4 до 6 м.**

575. Какое расстояние должно быть обеспечено между буксирующим и буксируемым транспортными средствами при буксировке на жесткой сцепке?

- **Не более 4 м.**

576. Разрешается ли буксировка в гололедицу, если у буксируемого транспортного средства исправны тормоза и рулевое управление?

- **Разрешается на жесткой сцепке или методом частичной погрузки.**

577. Разрешается ли буксировка мотоцикла с боковым прицепом?

- **Да.**

578. Разрешается ли Вам буксировать автомобиль с неработающей тормозной системой, если фактическая масса этого автомобиля превышает половину фактической массы Вашего автомобиля?

- **Не разрешается.**

579. Разрешена ли Вам перевозка людей в салоне легкового автомобиля, буксирующего неисправное транспортное средство?

- **Разрешена.**

580. Разрешено ли Вам перевозить людей в буксируемом легковом автомобиле?

- **Разрешено только при буксировке на гибкой или жесткой сцепке.**



## 21. Учебная езда

581. Какие из перечисленных требований предъявляются к обучаемому, допущенному к учебной езде на дорогах?

- **Все перечисленные требования.**

oltest.ru



## 22. Перевозка людей

582. Какие из перечисленных требований являются обязательными при перевозке детей?

- **Оба требования являются обязательными.**

583. Разрешается ли перевозка людей в прицепе-даче?

- **Не разрешается.**

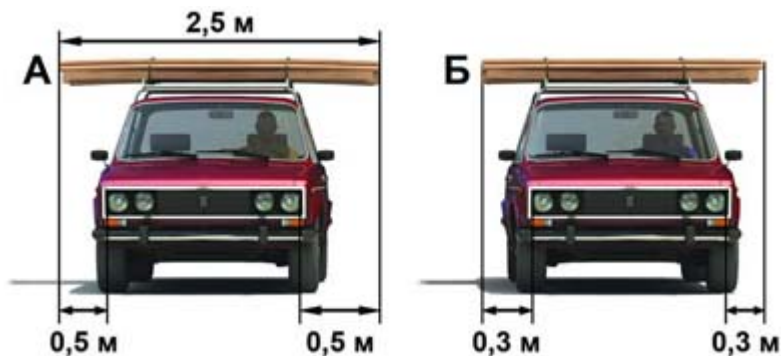
584. Разрешена ли перевозка детей до 12-летнего возраста на переднем сиденье легкового автомобиля?

- **Разрешена только с использованием детских удерживающих устройств.**

oltest.ru



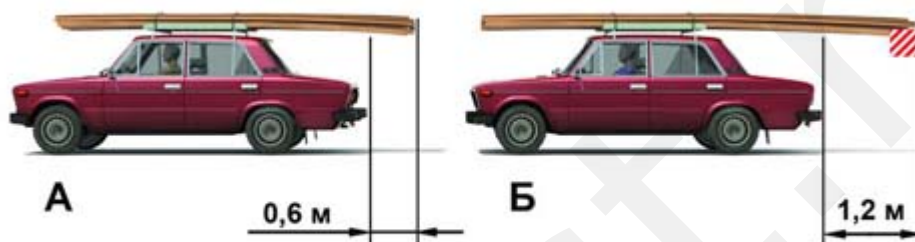
### 23. Перевозка грузов



585.

На каком рисунке изображен автомобиль, водитель которого не нарушает правил перевозки грузов?

- Только на Б.



586.

На каком рисунке изображен автомобиль, водитель которого не нарушает правил перевозки грузов?

- На обоих.

587. Перевозка груза запрещается, если он:

- Закрывает внешние световые приборы, световозвращатели, регистрационные и опознавательные знаки.



## 24. Движение на велосипедах, мопедах



588.

В данной ситуации:

- **Вы, имея преимущество, можете продолжить движение, приняв меры предосторожности.**



589.

Эта разметка обозначает:

- **Место, где велосипедная дорожка пересекает проезжую часть.**



590.

Этот дорожный знак предупреждает Вас:

- **О приближении к пересечению с велосипедной дорожкой.**



### Основы безопасности дорожного движения



591.

На каком рисунке показано правильное положение рук на рулевом колесе?


- На правом.



592.

На каком рисунке показан безопасный способ разворота вне перекрестка с использованием прилегающей территории справа?

- На левом.



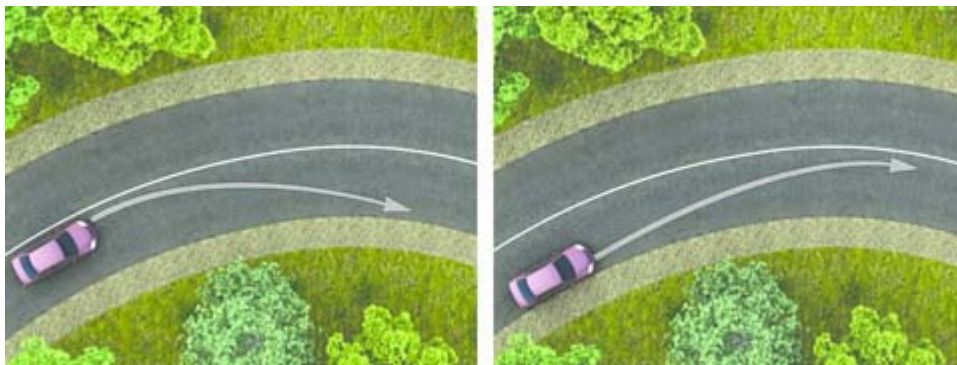
593.

Для обеспечения безопасности при остановке на подъеме (спуске) водителю следует повернуть передние колеса. Водители каких транспортных средств правильно выполнили это требование при отсутствии тротуара?

- А и Г.







594.

На каком рисунке водитель выполняет правый поворот по траектории, обеспечивающей наибольшую безопасность движения?

- **На левом.**



595.

При выезде из лесистого участка на открытое место установлен знак «Боковой ветер». Ваши действия?

- **Уменьшить скорость и быть готовым к возможному отклонению автомобиля от заданного курса.**

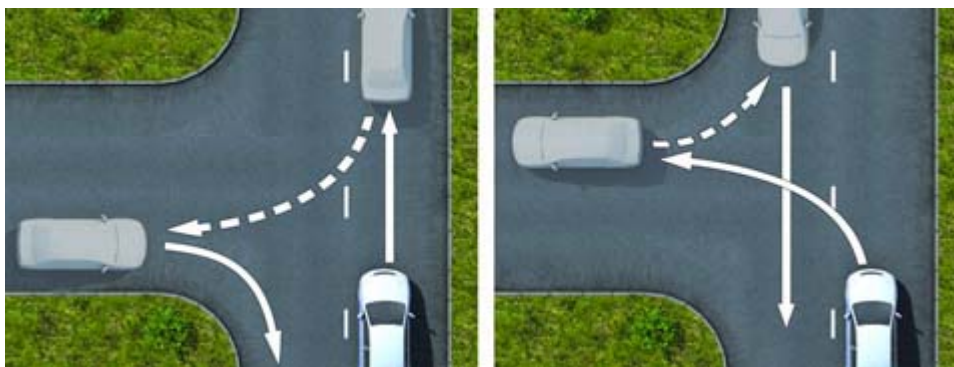


596.

После длительного движения по двухполосной дороге за грузовым автомобилем на безопасной дистанции у Вас появилась возможность совершить обгон. Ваши действия?

- **Перестроитесь на полосу встречного движения, после чего произведете сближение с обгоняемым транспортным средством.**





597.

На каком рисунке показан безопасный способ разворота вне перекрестка с использованием прилегающей территории слева?

- На правом.



598.

Что Вам следует иметь в виду, увидев впереди пешехода, переходящего проезжую часть?

- Следует иметь в виду все перечисленное.



599.

Для предупреждения скатывания автомобиля при остановке на подъеме (спуске) водителю следует повернуть передние колеса. Водители каких транспортных средств правильно выполнили это требование при наличии тротуара?

- А и В.






600.

При движении в условиях тумана расстояние до предметов представляется:

- **Большим, чем в действительности.**



601.

На каком рисунке водитель выполняет левый поворот по траектории, обеспечивающей наибольшую безопасность движения?

- **На левом.**

602. Безопасной дистанцией при движении по сухой дороге на легковом автомобиле можно считать расстояние, которое автомобиль пройдет не менее чем за:

- **2 секунды.**

603. В каких случаях Вам запрещается дальнейшее движение даже до места ремонта или стоянки с негорящими (из-за неисправности) фарами и задними габаритными огнями?

- **В обоих перечисленных случаях.**

604. В каких случаях запрещается эксплуатация мотоцикла?

- **При отсутствии предусмотренных конструкцией дуг безопасности, подножек, поперечных рукояток для пассажиров на седле.**

605. В каких случаях разрешается эксплуатация транспортного средства?

- **Не работает указатель температуры охлаждающей жидкости.**

606. В каких случаях следует увеличить боковой интервал?

- **Во всех перечисленных случаях.**

607. В какой момент следует начинать отпускать стояночный тормоз при трогании на подъеме?

- **Одновременно с началом движения.**

608. В каком из перечисленных случаев водителю следует оценивать обстановку сзади?

- **При любом торможении.**

609. В каком из перечисленных случаев длина пути обгона будет больше?

- **При скорости движения обгоняемого транспортного средства 70 км/ч и обгоняющего 90 км/ч.**



610. В каком случае Вам запрещается дальнейшее движение на автомобиле с прицепом даже до места ремонта или стоянки?

- **Неисправно сцепное устройство.**

611. В каком случае Вам запрещается эксплуатация автомобиля?

- **Не работает звуковой сигнал.**

612. В каком случае Вам запрещается эксплуатация транспортного средства?

- **Имеется неисправность в глушителе.**

613. В каком случае Вам разрешается эксплуатация автомобиля?

- **На задней оси автомобиля установлены шины с восстановленным рисунком протектора.**

614. В каком случае Вам разрешается эксплуатация автомобиля?

- **Не работает стеклоподъемник.**

615. В каком случае Вам разрешается эксплуатация легкового автомобиля?

- **Не работает указатель температуры охлаждающей жидкости.**

616. В каком случае Вам разрешается эксплуатация транспортного средства?

- **Отсутствуют противотуманные фары.**

617. В каком случае легковой автомобиль более устойчив против опрокидывания на повороте?

- **Без груза и пассажиров.**

618. В какую сторону смещается прицеп автопоезда на повороте?

- **Смещается к центру поворота.**

619. В случае, когда правые колеса автомобиля наезжают на неукрепленную влажную обочину, рекомендуется:

- **Не прибегая к торможению, плавно вернуть автомобиль на проезжую часть.**

620. В темное время суток и в пасмурную погоду скорость встречного автомобиля воспринимается:

- **Ниже, чем в действительности.**

621. Вероятность возникновения аварийной ситуации при движении в плотном транспортном потоке будет меньше, если скорость Вашего транспортного средства:

- **Равна средней скорости потока.**

622. Включение каких внешних световых приборов обеспечит Вам наилучшую видимость дороги при движении ночью во время сильной метели?

- **Противотуманных фар совместно с ближним светом фар.**

623. Вы имеете право эксплуатировать легковой автомобиль при отсутствии:

- **Противооткатных упоров.**

624. Двигаться по глубокому снегу на грунтовой дороге следует:

- **На заранее выбранной пониженной передаче, без резких поворотов и остановок.**

625. Двигаясь в прямом направлении со скоростью 60 км/ч, Вы внезапно попали на небольшой участок скользкой дороги. Что следует предпринять?

- **Не менять траектории и скорости движения.**

626. Для прекращения заноса, вызванного торможением, водитель в первую очередь должен:

- **Прекратить начатое торможение.**



627. Зависит ли выбор бокового интервала от скорости движения?

- **При увеличении скорости движения боковой интервал необходимо увеличить.**

628. Исключает ли антиблокировочная тормозная система возможность возникновения заноса или сноса при прохождении поворота?

- **Не исключает возможность возникновения сноса или заноса.**

629. Как влияет алкоголь на время реакции водителя?

- **Время реакции увеличивается.**

630. Как влияет длительный разгон транспортного средства с включенной первой передачей на расход топлива?

- **Расход топлива увеличивается.**

631. Как влияет утомление водителя на его внимание и реакцию?

- **Внимание притупляется, время реакции увеличивается.**

632. Как водитель должен воздействовать на педаль управления подачей топлива при возникновении заноса, вызванного резким ускорением движения?

- **Уменьшить нажатие на педаль.**

633. Как воспринимается водителем скорость своего автомобиля при длительном движении по равнинной дороге на большой скорости?

- **Кажется меньше, чем в действительности.**

634. Как Вы должны поступить, если во время движения отказал в работе спидометр?

- **Попытаться устранить неисправность на месте, а если это невозможно, то следовать к месту стоянки или ремонта с соблюдением необходимых мер предосторожности.**

635. Как должен поступить водитель в случае потери сцепления колес с дорогой из-за образования «водяного клина»?

- **Снизить скорость, применяя торможение двигателем.**

636. Как изменяется величина центробежной силы с увеличением скорости движения на повороте?

- **Увеличивается пропорционально квадрату скорости.**

637. Как изменяется длина тормозного пути легкового автомобиля при движении с прицепом, не имеющим тормозной системы?

- **Увеличивается.**

638. Как изменяется поле зрения водителя с увеличением скорости движения?

- **Сужается.**

639. Как правильно произвести экстренное торможение на скользкой дороге, если Ваш автомобиль не оборудован антиблокировочной тормозной системой?

- **Тормозить прерывистым нажатием на педаль тормоза, не допуская блокировки колес.**

640. Как правильно произвести экстренное торможение, если Ваш автомобиль оборудован антиблокировочной тормозной системой?

- **Нажать на педаль тормоза до упора и удерживать ее до полной остановки.**

641. Как следует поступить водителю, если во время движения по сухой дороге с асфальтобетонным покрытием начал моросить дождь?

- **Уменьшить скорость и быть особенно осторожным.**



642. Какая наименьшая величина остаточной высоты рисунка протектора допускается при эксплуатации легкового автомобиля?

- **1,6 мм.**

643. Какая наименьшая величина остаточной высоты рисунка протектора допускается при эксплуатации мотоцикла?

- **0,8 мм.**

644. Какие действия водителя приведут к уменьшению центробежной силы, возникающей на повороте?

- **Уменьшение скорости движения.**

645. Какие из перечисленных транспортных средств разрешается эксплуатировать без медицинской аптечки?

- **Только мотоциклы без бокового прицепа.**

646. Какие из перечисленных транспортных средств разрешается эксплуатировать без огнетушителя?

- **Все мотоциклы.**

647. Какие преимущества дает Вам использование зимних шин в холодное время года?

- **Уменьшается возможность проскальзывания и пробуксовки колес на скользком покрытии.**

648. Каковы типичные признаки наступившего утомления водителя?

- **Сонливость, вялость, притупление внимания.**

649. Какое расстояние проедет транспортное средство за одну секунду при скорости движения около 90 км/час?

- **Примерно 25 м.**

650. Какой стиль вождения обеспечит наименьший расход топлива?

- **Плавное ускорение при плавном замедлении.**

651. На повороте возник занос задней оси заднеприводного автомобиля. Ваши действия?

- **Слегка уменьшить подачу топлива и повернуть рулевое колесо в сторону заноса.**

652. На повороте возник занос задней оси переднеприводного автомобиля. Ваши действия?

- **Слегка увеличите подачу топлива, корректируя направление движения рулевым колесом.**

653. При возникновении какой неисправности Вам запрещено дальнейшее движение даже до места ремонта или стоянки?

- **Неисправна рабочая тормозная система.**

654. При возникновении какой неисправности Вам запрещено дальнейшее движение даже до места ремонта или стоянки?

- **Неисправно рулевое управление.**

655. При движении в плотном потоке Вы заметили сзади транспортное средство, движущееся на слишком малой дистанции. Как следует поступить, чтобы обеспечить безопасность движения?

- **Скорректировать скорость движения, ослабив нажатие на педаль газа, чтобы увеличить дистанцию до движущегося впереди транспортного средства.**

656. При движении в условиях плохой видимости нужно выбирать скорость, исходя из того, чтобы остановочный путь был:

- **Меньше расстояния видимости.**



657. При движении на каком автомобиле увеличение скорости может способствовать устранению заноса задней оси?

- **На переднеприводном.**

658. При движении по какому участку дороги действие сильного бокового ветра наиболее опасно?

- **При выезде с закрытого участка на открытый.**

659. При какой неисправности Вам запрещено дальнейшее движение на транспортном средстве во время дождя или снегопада?

- **Не действует стеклоочиститель со стороны водителя.**

660. При какой неисправности разрешается эксплуатация транспортного средства?

- **Не работает стеклоподъемник.**

661. При какой неисправности тормозной системы Вам запрещается эксплуатация транспортного средства?

- **Стояночная тормозная система не обеспечивает неподвижное состояние транспортного средства с полной нагрузкой на уклоне до 16% включительно.**

662. При каком значении суммарного люфта в рулевом управлении допускается эксплуатация легкового автомобиля?

- **Не более 10 градусов.**

663. При приближении к вершине подъема в темное время суток водителю рекомендуется переключить дальний свет фар на ближний:

- **Всегда при приближении к вершине подъема.**

664. При торможении двигателем на крутом спуске водитель должен выбирать передачу, исходя из условий:

- **Чем круче спуск, тем ниже передача.**

665. Принято считать, что среднее время реакции водителя составляет:

- **Примерно 1 секунду.**

666. Разрешается ли Вам устанавливать на одну ось легкового автомобиля шины с различным рисунком протектора?

- **Не разрешается.**

667. Разрешается ли движение до места ремонта или стоянки в темное время суток с негорящими (из-за неисправности) фарами и задними габаритными огнями?

- **Запрещается.**

668. Разрешается ли устанавливать на транспортном средстве ошипованные шины совместно с неошипованными?

- **Запрещается.**

669. Считаете ли Вы безопасным движение на легковом автомобиле в темное время суток с ближним светом фар по неосвещенной загородной дороге со скоростью 90 км/ч?

- **Нет, так как остановочный путь превышает расстояние видимости.**

670. Уменьшение тормозного пути транспортного средства достигается:

- **Торможением на грани блокировки способом прерывистого нажатия на педаль тормоза.**

671. Чем опасно длительное торможение с выключенным сцеплением (передачей) на крутом спуске?

- **Перегреваются тормозные механизмы и уменьшается эффективность торможения.**



672. Что должен сделать водитель, чтобы быстро восстановить эффективность тормозов после проезда через водную преграду?

• **Продолжить движение и просушить тормозные колодки многократными непродолжительными нажатиями на педаль тормоза.**

673. Что подразумевается под временем реакции водителя?

• **Время с момента обнаружения водителем опасности до начала принятия мер по ее избеганию.**

674. Что подразумевается под остановочным путем?

• **Расстояние, пройденное транспортным средством с момента обнаружения водителем опасности до полной остановки.**

675. Что следует предпринять водителю для предотвращения опасных последствий заноса автомобиля при резком повороте рулевого колеса на скользкой дороге?

• **Быстро, но плавно повернуть рулевое колесо в сторону заноса, затем опережающим воздействием на рулевое колесо выровнять траекторию движения автомобиля.**

676. Что следует сделать водителю, чтобы предотвратить возникновение заноса при проезде крутого поворота?

• **Перед поворотом снизить скорость, при необходимости включить пониженную передачу, а при проезде поворота не увеличивать резко скорость и не тормозить.**





## Ответственность за нарушение ПДД

677. Административная ответственность установлена за нарушение Правил дорожного движения или правил эксплуатации транспортного средства, повлекшее причинение:

- **Легкого или средней тяжести вреда здоровью человека.**

678. В каких случаях водители привлекаются к уголовной ответственности за нарушения Правил?

- **При причинении смерти человеку или тяжкого вреда здоровью человека.**

679. В каких случаях водитель направляется на медицинское освидетельствование на состояние опьянения?

- **Во всех перечисленных случаях.**

680. Владелец транспортного средства обязан возместить вред, причиненный этим транспортным средством, если не докажет, что:

- **Вред возник вследствие непреодолимой силы или умысла потерпевшего.**

681. За какие административные правонарушения, связанные с наличием состояния опьянения, предусмотрены штраф с лишением права управления на срок на три года?

- **За повторное совершение следующего правонарушения: управление транспортным средством водителем, находящимся в состоянии опьянения; за передачу управления транспортным средством лицу, находящемуся в состоянии опьянения.**

682. Какие виды административных наказаний могут применяться к водителям за нарушения Правил?

- **Предупреждение, штраф, конфискация орудия совершения или предмета административного правонарушения, лишение права управления транспортными средствами, административный арест.**

683. Какие меры административного предупреждения предусмотрены за управление транспортным средством на котором установлены стекла (в том числе покрытые прозрачными пленками), светопропускание которых не соответствуют требованиям технического регламента о безопасности колесных транспортных средств?

- **Запрещение эксплуатации транспортного средства и штраф в размере 500 рублей.**

684. Какие меры административного принуждения предусмотрены за управление транспортным средством, если обязательное страхование гражданской ответственности владельца этого транспортного средства заведомо отсутствует?

- **Запрещение эксплуатации транспортного средства и штраф в размере 800 рублей.**

685. Какое административное наказание может быть применено к водителю транспортного средства за оставление в нарушение Правил места дорожно-транспортного происшествия, участником которого он является?

- **Лишение права управления транспортными средствами на срок от 1 года до 1,5 лет или административный арест на срок до 15 суток.**

686. Неуплата административного штрафа в установленный срок влечет:

- **Штраф в двукратном размере суммы неуплаченного штрафа (но не менее 1000 рублей) либо административный арест на срок до 15 суток.**

687. При наличии каких обстоятельств оформление документов о дорожно-транспортном происшествии (ДТП) может быть осуществлено без участия уполномоченных на то сотрудников полиции?

- **При наличии одновременно всех перечисленных обстоятельств.**

688. При совершении административного правонарушения, влекущего задержание транспортного средства, оно задерживается до:

- **Устранения причины задержания.**



689. У водителя, совершившего административное правонарушение, влекущее лишение права управления транспортными средствами, водительское удостоверение изымается:

• **После истечения срока обжалования постановления о лишении права управления транспортными средствами, если оно не было обжаловано или опротестовано.**

oltest.ru



## Первая медицинская помощь при ДТП

690. В каких случаях пострадавшего извлекают из салона автомобиля?

- **При потере потерпевшим сознания и отсутствии у него пульса на сонной артерии и признаков дыхания.**

691. В чем заключается первая помощь пострадавшему, находящемуся в сознании, при повреждении позвоночника?

- **Лежащего пострадавшего не перемещать. Следует наложить ему на шею импровизированную шейную шину, не изменяя положения шеи и тела.**

692. Как влияет алкоголь на время реакции водителя?

- **Время реакции увеличивается.**

693. Как обеспечить восстановление и поддержание проходимости дыхательных путей пострадавшего при подготовке к проведению сердечно-легочной реанимации?

- **Очистить ротовую полость от слизи и рвотных масс. Уложить пострадавшего на спину, запрокинуть ему голову, поднять подбородок и выдвинуть нижнюю челюсть.**

694. Как оказывается первая помощь при переломах конечностей, если отсутствуют транспортные шины и подручные средства для их изготовления?

- **Верхнюю конечность, согнутую в локте, подвешивают на косынке и прибинтовывают к туловищу. Нижние конечности прибинтовывают друг к другу, обязательно проложив между ними мягкую ткань.**

695. Как определить наличие пульса на сонной артерии пострадавшего?

- **Три пальца руки располагают с правой или левой стороны шеи на уровне щитовидного хряща гортани (кадыка) и осторожно продвигают вглубь шеи между щитовидным хрящом и ближайшей к хрящу мышцей.**

696. Как остановить кровотечение при ранении вены и некрупных артерий?

- **Наложить давящую повязку на место ранения.**

697. Как следует расположить руки на грудной клетке пострадавшего при выполнении непрямого массажа сердца?

- **Основания ладоней обеих рук, которые накладываются одна на другую, должны располагаться на груди на два пальца выше мечевидного отростка так, чтобы большой палец одной руки указывал в сторону подбородка пострадавшего, а другой — в сторону живота.**

698. Какие сведения необходимо сообщить диспетчеру для вызова «Скорой помощи» при ДТП?

- **Указать точное место совершенного ДТП (назвать улицу, номер дома и общеизвестные ориентиры, ближайшие к месту ДТП). Сообщить о количестве пострадавших, их пол, примерный возраст и о наличии у них признаков жизни, а также сильного кровотечения.**

699. Каким образом оказать первую помощь при ранении, полученном в результате ДТП?

- **Надеть медицинские перчатки, рану не промывать, на рану наложить марлевую стерильную салфетку, закрепив ее лейкопластырем по краям или бинтовой повязкой.**

700. Каким образом проводится сердечно-легочная реанимация пострадавшего?

- **Непрямой массаж сердца и искусственная вентиляция легких: вначале 30 надавливаний на грудину, затем 2 вдоха методом «Рот ко рту».**



701. Какова первая помощь при наличии признаков термического ожога второй степени (покраснение и отек кожи, образование на месте ожога пузырей, наполненных жидкостью, сильная боль)?

• Пузыри не вскрывать, остатки одежды с обожженной поверхности не удалять, рану накрыть стерильной салфеткой (не бинтовать), приложить холод, дать болеутоляющее средство из индивидуальной аптечки (при отсутствии аллергии на него) и поить пострадавшего водой.

702. Какова первая помощь при травме волосистой части головы?

• Наложить импровизированную шейную шину. К ране волосистой части головы приложить давящую повязку из стерильного бинта, пострадавшего уложить на бок с согнутыми в коленях ногами, к голове приложить холод.

703. Каковы признаки кровотечения из крупной артерии и первая помощь при ее ранении?

• Одежда пропитана кровью, кровь алого цвета вытекает из раны пульсирующей струей. Накладывается кровоостанавливающий жгут выше места ранения не менее чем на 3-5 см.

704. Когда следует проводить сердечно-легочную реанимацию пострадавшего?

• При потере пострадавшим сознания и отсутствии пульса на сонной артерии, а также признаков дыхания.

705. На какой срок может быть наложен кровоостанавливающий жгут?

• Не более одного часа в теплое время года и не более получаса в холодное время года.

706. О каких травмах у пострадавшего может свидетельствовать поза «лягушки» (ноги согнуты в коленях и разведены, а стопы развернуты подошвами друг к другу) и какую первую помощь необходимо при этом оказать?

• У пострадавшего могут быть перелом шейки бедра, костей таза, перелом позвоночника, повреждение внутренних органов малого таза, внутреннее кровотечение. Позу ему не менять, ноги не вытягивать, шины не накладывать. При первой помощи подложить под колени валик из мягкой ткани, к животу по возможности приложить холод.

707. При открытом переломе конечностей, сопровождающемся кровотечением, первую помощь начинают:

• С наложения жгута выше раны на месте перелома.

708. При потере пострадавшим сознания и наличии пульса на сонной артерии для оказания первой помощи его необходимо уложить:

• На бок так, чтобы согнутые колени опирались о землю, а верхняя рука находилась под щекой.

709. Разрешено ли давать пострадавшему, находящемуся в бессознательном состоянии, лекарственные средства?

• Запрещено.

710. Что необходимо сделать для извлечения инородного тела, попавшего в дыхательные пути пострадавшего?

• Ударить несколько раз ладонью по спине пострадавшего. При отрицательном результате встать сзади, обхватить его обеими руками на уровне нижних ребер, сцепить свои руки в кулак, одновременно сдавить его ребра и резко надавить на область живота кулаком в направлении внутрь и вверх.



### Дорожные знаки: 1. Предупреждающие знаки



711.

На каком расстоянии до скользкого участка дороги устанавливается этот знак в населенном пункте?  
• **50–100 м.**



712.

Как Вы должны действовать в данной ситуации?

• **Остановиться перед знаком и продолжить движение, только убедившись в отсутствии приближающегося поезда.**



713.

Эти знаки предупреждают Вас:

• **О том, что на расстоянии 150–300 м за дорожным знаком начнется участок дороги протяженностью 500 м с опасными поворотами.**





714. Разрешено ли Вам выполнить разворот по указанным траекториям?  
 • **Запрещено.**



715. Разрешен ли Вам разворот в указанном месте?  
 • **Разрешен только при видимости дороги более 100 м.**



716. Какие знаки означают, что Вы должны уступить дорогу, если встречный разъезд затруднен?  
 • **А и В.**



717. Эти знаки предупреждают Вас о том, что:  
 • **Съезд на обочину опасен в связи с проведением на ней ремонтных работ.**





718.

Этот знак:

- Показывает направления движения на перекрестке.



719.

Эти знаки предупреждают Вас о приближении:

- К железнодорожному переезду со шлагбаумом.



720.

Кто должен уступить дорогу?

- Водитель грузового автомобиля.



721.

Какие знаки устанавливают непосредственно перед железнодорожным переездом?

- Только В.





722.

Этот дорожный знак:

- **Предупреждает о приближении к месту пересечения с трамвайной линией.**



723.

Разрешен ли Вам обгон в данной ситуации?

- **Да, если обгон будет завершен до перекрестка.**



724.

Какие знаки распространяют свое действие только на период времени, когда покрытие проезжей части влажное?

- **Только А.**



725.

По какой траектории Правила разрешают Вам произвести поворот налево?

- **Только по Б.**







726.

Эти знаки предупреждают Вас:

- **О наличии через 150–300 м железнодорожного переезда без шлагбаума.**



727.

Этот знак предупреждает о приближении к перекрестку, на котором Вы:

- **Должны уступить дорогу только транспортным средствам, приближающимся справа.**



728.

Вы намерены повернуть налево. Ваши действия?

- **Уступите дорогу обоим грузовым автомобилям.**



729.

Можете ли Вы развернуться в этом месте?

- **Да.**





730.

При затрудненном встречном разъезде на таком участке дороги преимущество имеет:

- **Водитель легкового автомобиля.**



731.

Выполняя обезд на подъеме, Вы:

- **Имеете право проехать первым.**



**А**



**Б**



**В**

732.

Какой знак используется для обозначения границ искусственной неровности?

- **Только А.**



733.

Этот дорожный знак предупреждает Вас:

- **О приближении к пересечению с велосипедной дорожкой.**





734.

Этот знак предупреждает Вас о приближении к тоннелю, в котором:

- **Отсутствует искусственное освещение.**



735.

Этот дорожный знак предупреждает Вас:

- **О приближении к участку дороги, где возможен выброс щебня из-под колес.**



736.

Разрешено ли Вам начать обгон в населенном пункте?

- **Нет.**



737.

Разрешен ли Вам съезд на дорогу с грунтовым покрытием?

- **Да.**





738.

При выезде из лесистого участка на открытое место установлен знак «Боковой ветер». Ваши действия?

- Уменьшить скорость и быть готовым к возможному отклонению автомобиля от заданного курса.



А



Б



В

739.

Какими знаками обозначают участки, на которых водитель обязан уступать дорогу пешеходам, находящимся на проезжей части?

- Только Б и В.



740.

На каком расстоянии до неровного участка дороги устанавливается этот знак вне населенного пункта?

- 150—300 м.





**A**



**Б**



**В**

741.

Какие знаки информируют Вас о приближении к началу участка дороги со встречным движением?

- **Только А.**



742.

В данной ситуации Вы:

- **Имеете право проехать первым.**



743.

Можете ли Вы обогнать трактор?

- **Да, если обгон будет завершен за 100 м до переезда.**



744.

Разрешено ли Вам поставить автомобиль на стоянку в указанном месте?

- **Да.**





745.

В этой ситуации, двигаясь на спуске, Вы:

- Должны уступить дорогу.



746.

Знаки предупреждают Вас о том, что:

- Через 150 м на Вашем пути будет нерегулируемый пешеходный переход.



## Дорожные знаки: 2. Знаки приоритета



747.

Вы намерены повернуть направо. Можете ли Вы приступить к повороту?

- **Да, но не создавая помех грузовому автомобилю.**



748.

Вы намерены повернуть налево. Кому следует уступить дорогу?

- **Только легковому автомобилю и автобусу.**



749.

Разрешено ли Вам въехать на мост одновременно с мотоциклистом, если Вы не затрудните ему движение?

- **Да.**





750.

Вы намерены продолжить движение прямо. Кому следует уступить дорогу?

- **Трамваю и легковому автомобилю.**



751.

Вы намерены продолжить движение прямо. Кому следует уступить дорогу?

- **Только легковому автомобилю.**



752.

Вы намерены повернуть налево. Кому следует уступить дорогу?

- **Обоим транспортным средствам.**



753.

Вы намерены продолжить движение прямо. Кому следует уступить дорогу?

- **Обоим транспортным средствам.**







754.

Вы намерены повернуть направо. Можете ли Вы приступить к повороту?

- **Да, после того, как грузовой автомобиль начнет поворот.**



755.

Вы намерены повернуть налево. Ваши действия?

- **Проедете перекресток первым.**



756.

Вы намерены продолжить движение прямо. Кому следует уступить дорогу?

- **Никому.**



757.

При повороте налево во второй проезд Вы:

- **Должны уступить дорогу только автобусу.**





758.

В каком месте Вы должны остановиться?


- **Перед краем пересекаемой проезжей части (В).**



759.

Разрешено ли Вам обогнать мотоциклиста?

- **Разрешено.**



760.

Какие знаки информируют Вас, что на перекрестке необходимо уступить дорогу транспортным средствам, приближающимся слева?

- **Только Б.**





761.

Вы намерены продолжить движение прямо. Каковы Ваши действия при желтом мигающем сигнале светофора?


- Уступите дорогу только автомобилю.



762.

Намереваясь повернуть налево, Вы должны:

- Уступить дорогу грузовому автомобилю.



763.

Вы намерены развернуться. Кому Вы должны уступить дорогу?

- Только грузовому автомобилю.



764.

Вы намерены повернуть налево. Можете ли Вы приступить к повороту?

- Да, но не создавая помех грузовому автомобилю.





765.

О чем информируют Вас эти дорожные знаки?

- **О приближении к перекрестку, где установлен знак «Движение без остановки запрещено».**



766.

Разрешается ли Вам выполнить разворот на перекрестке?

- **Да.**



767.

Вы намерены повернуть налево. Где Вы должны остановиться, чтобы уступить дорогу?

- **Перед перекрестком у линии разметки.**



768.

Вы намерены продолжить движение прямо. При желтом мигающем сигнале светофора Вы должны:

- **Проехать перекресток первым.**





769. Разрешен ли Вам обгон в данной ситуации?

- **Разрешен.**



770. На каких рисунках показана главная дорога?

- **Только на верхних.**



771. Какие знаки означают, что Вы должны уступить дорогу, если встречный разъезд затруднен?

- **А и В.**



772. Вы намерены повернуть налево. Кому следует уступить дорогу?

- **Только автомобилю с включенным проблесковым маячком и специальным звуковым сигналом.**





773.

Как Вы должны действовать в данной ситуации?


- **Остановиться перед знаком и продолжить движение, только убедившись в отсутствии приближающегося поезда.**



774.

Вы намерены повернуть налево. Кому следует уступить дорогу?

- **Никому.**



775.

Какие знаки требуют обязательной остановки?

- **Только Б.**



776.

Вы намерены продолжить движение прямо. Кому следует уступить дорогу?

- **Всем транспортным средствам.**





777.

Вы намерены повернуть налево. Кому следует уступить дорогу?


- **Всем транспортным средствам.**



778.

Поднятая вверх рука водителя легкового автомобиля является сигналом, информирующим Вас:

- **О его намерении снизить скорость, чтобы остановиться и уступить дорогу мотоциклисту.**



779.

Вы намерены продолжить движение прямо. Кому следует уступить дорогу?

- **Только автобусу и легковому автомобилю.**



780.

При въезде на перекресток Вы:

- **Должны уступить дорогу обоим транспортным средствам.**





781.

На каких рисунках показана главная дорога?

- На левом верхнем и нижнем.



782.

Этот дорожный знак:

- Обязывает уступить дорогу встречному транспортному средству.



783.

Разрешено ли Вам поставить автомобиль на стоянку в указанном месте при наличии узкой обочины?

- Запрещено.



784.

Может ли водитель легкового автомобиля в населенном пункте выполнить опережение грузовых автомобилей по такой траектории?

- Да.







785.

Вы намерены повернуть налево. Кому следует уступить дорогу?

- **Только автобусу.**



786.

Эти знаки, установленные перед перекрестком, означают, что:

- **Находясь на таком перекрестке, Вы будете иметь преимущество перед всеми ТС, въезжающими на него.**



787.

Вы намерены повернуть налево. Кому следует уступить дорогу?

- **Только трамваю А.**



788.

На каких рисунках показана главная дорога?

- **На нижнем и правом верхнем.**





789. Можете ли Вы въехать на мост первым?

- Да.



790. Вы намерены повернуть налево. Кому следует уступить дорогу?

- Только автобусу.



791. Разрешен ли Вам обгон?

- Разрешен.



792. Вы намерены повернуть налево. Кому следует уступить дорогу?

- Трамваю Б и легковому автомобилю.





793.

Вы намерены проехать перекресток в прямом направлении. Должны ли Вы уступить дорогу встречному автомобилю с включенным проблесковым маячком?


• **Нет.**



794.

Вы намерены повернуть налево. Кому следует уступить дорогу?

• **Только легковому автомобилю.**



А

Б

В

Г

795.

Какой из знаков отменяет все ограничения, введенные ранее запрещающими знаками?

• **Только В.**



А

Б

В

796.

Какие знаки предоставляют Вам преимущество при проезде нерегулируемых перекрестков?

• **А и В.**





797.

В данной ситуации Вы должны:

- **Остановиться у стоп-линии.**



798.

Можете ли Вы начать обгон?

- **Да, если обгон будет завершен до перекрестка.**



799.

Вы намерены повернуть налево. Кому следует уступить дорогу?

- **Никому.**



800.

Вы намерены повернуть налево. Кому следует уступить дорогу?

- **Никому.**





801. Вы намерены повернуть налево. Кому следует уступить дорогу?  
 • **Никому.**



802. В каком месте Вы должны остановиться в данной ситуации?  
 • **У знака «Движение без остановки запрещено».**



**А**



**Б**




**В**

803. Какой знак информирует о начале дороги с реверсивным движением?  
 • **В.**



804. Что обозначает разметка в виде треугольника на полосе движения?  
 • **Предупреждает о приближении к месту, где нужно уступить дорогу.**





805.

Вы намерены продолжить движение прямо. Кому следует уступить дорогу?

- **Обоим транспортным средствам.**



806.

Вы намерены развернуться. Ваши действия?

- **Уступите дорогу только легковому автомобилю и развернетесь.**



807.

При движении прямо Вы:

- **Можете продолжить движение через перекресток без остановки.**



808.

Вы намерены повернуть налево. Кому следует уступить дорогу?

- **Обоим транспортным средствам.**





809.

Вы намерены повернуть налево. Кому следует уступить дорогу?

- **Обоим транспортным средствам.**

810. Что означает разметка в виде надписи «СТОП» на проезжей части?

- **Предупреждает о приближении к стоп-линии и знаку «Движение без остановки запрещено».**

oltest.ru



### Дорожные знаки: 3. Запрещающие знаки



811.  
Разрешена ли Вам остановка за знаком?  
• **Запрещена.**



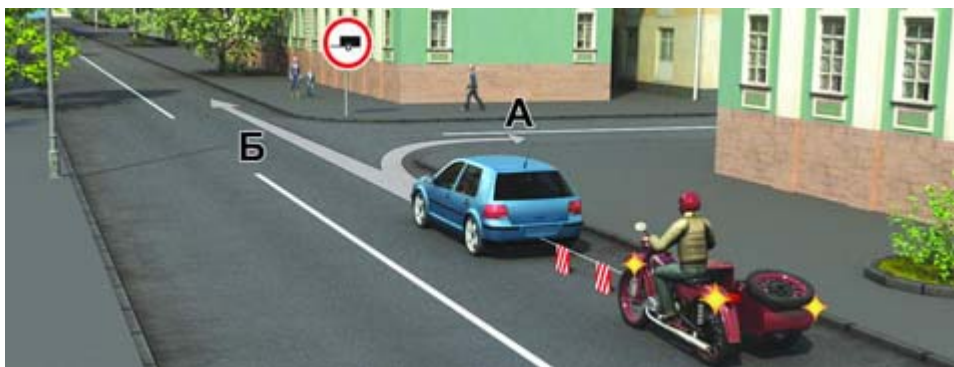
812.  
Каким транспортным средствам разрешена остановка в зоне действия знака?  
• **Только автомобилям, на которых установлен опознавательный знак «Инвалид».**



813.  
Разрешено ли Вам поставить автомобиль на стоянку в указанном месте?  
• **Разрешено.**







814.  
В каком направлении можно продолжить буксировку?

- Только А.



815.  
Можете ли Вы остановиться для посадки пассажира за знаком?

- Да.



А



Б



В

816.  
Какой из знаков обозначает пешеходную дорожку?

- Только Б.



817.  
Разрешено ли Вам подъехать к месту своей работы, расположенному в зоне действия этих знаков?

- Разрешено в любой день.





818.

Эта разметка обозначает:

- **Разрешенную максимальную скорость движения на данном участке дороги.**



819.

Разрешена ли Вам стоянка в указанном месте?

- **Разрешена.**



820.

Управляя каким автомобилем, Вы можете опередить легковой автомобиль?

- **Только легковым или грузовым с разрешенной максимальной массой менее 3,5 т.**



821.

Разрешен ли Вам обгон?

- **Разрешен.**





822.

В зоне действия каких знаков Правила разрешают подачу звуковых сигналов только для предотвращения дорожно-транспортных происшествий?

- **А и Б.**



823.

Каким транспортным средствам разрешена остановка в зоне действия знака?

- **Только маршрутным транспортным средствам.**



824.

Разрешено ли Вам поставить автомобиль на стоянку в указанном месте?

- **Запрещено.**





825.

С какой максимальной скоростью Вы можете продолжить движение, управляя легковым автомобилем?

- **90 км/ч.**



826.

В каком из указанных мест Вы можете поставить на стоянку легковой автомобиль?

- **А или В.**



**А**



**Б**



**В**

827.

Какие знаки запрещают поворот налево?

- **Только А и В.**





828.

С какой максимальной скоростью Вы можете продолжить движение после знака, если Вы буксируете неисправное механическое транспортное средство?

- **50 км/ч.**



829.

С какой максимальной скоростью Вы можете продолжить движение на легковом автомобиле с прицепом?

- **70 км/ч.**




830.

В каком случае Вам необходимо двигаться со скоростью до 40 км/ч?

- **Только в том случае, когда покрытие на дороге влажное.**





831. Действие каких знаков распространяется только до ближайшего по ходу движения перекрестка?  
 • **Б и Г.**



832. В каких случаях Вам разрешается использовать звуковой сигнал в зоне действия этого знака?  
 • **Только для предотвращения дорожно-транспортного происшествия.**



833. Вы управляете грузовым автомобилем с разрешенной максимальной массой не более 3,5 т. В каких направлениях Вам разрешено дальнейшее движение?  
 • **В любых.**



834. Какие знаки запрещают дальнейшее движение без остановки?  
 • **Только Б и В.**






835.  
Разрешена ли Вам остановка в указанном месте?  
• **Запрещена.**



836.  
В каком из указанных мест Вы можете остановиться на легковом автомобиле?  
• **Только А и Б.**



837.  
Разрешено ли Вам произвести остановку для посадки пассажира?  
• **Разрешено.**



**А**



**Б**



**В**

838.  
Какие знаки распространяют свое действие только на период времени, когда покрытие проезжей части влажное?  
• **Только А.**





А



Б



В

839.

Какие знаки разрешают разворот?

- **Все.**



840.

В каких направлениях Вам разрешено продолжить движение?

- **Прямо или в обратном направлении.**



841.

По какой траектории Вы можете выполнить разворот?

- **По любой.**



842.

Эти знаки обязывают Вас соблюдать дистанцию:

- **Более 70 м на протяжении 100 м.**







843.

С какой максимальной скоростью Вы можете продолжить движение на грузовом автомобиле с разрешенной максимальной массой менее 3,5 т?

• 90 км/ч.



А



Б



В

844.

Какие знаки разрешают движение грузовым автомобилям с разрешенной максимальной массой до 3,5 т?

• Только А и В.



А



Б



В

845.

Какие знаки разрешают Вам проезд на автомобиле к месту проживания?

• Только А и В.





846. Разрешено ли Вам поставить автомобиль на стоянку в указанном месте?  
• **Запрещено.**



847. Этот дорожный знак:  
• **Запрещает движение со скоростью более 40 км/ч.**



848. Можете ли Вы начать обгон грузового автомобиля в данной ситуации?  
• **Нет.**



**А**



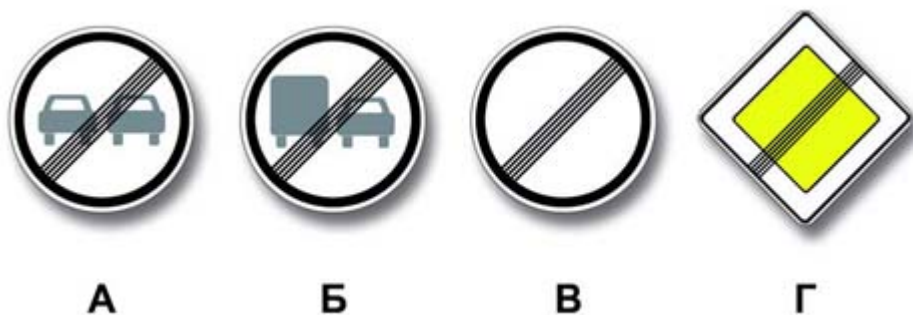
**Б**




**В**

849. Какие знаки разрешают движение со скоростью 60 км/ч?  
• **Б и В.**





850.  
Какой из знаков отменяет все ограничения, введенные ранее запрещающими знаками?  
• **Только В.**



851.  
Действие каких знаков не распространяется на транспортные средства, управляемые инвалидами I и II групп, перевозящие таких инвалидов или детей-инвалидов?  
• **Только Б и Г.**



852.  
В каких направлениях Вам разрешено продолжить движение на перекрестке?  
• **А или В.**



853.  
В каком из указанных мест Вам разрешено поставить автомобиль на стоянку?  
• **Только А.**





854.

В каком из указанных мест Вы можете поставить автомобиль на стоянку?

- **Только Б.**



855.

Какие требования предъявляют к Вам эти дорожные знаки?

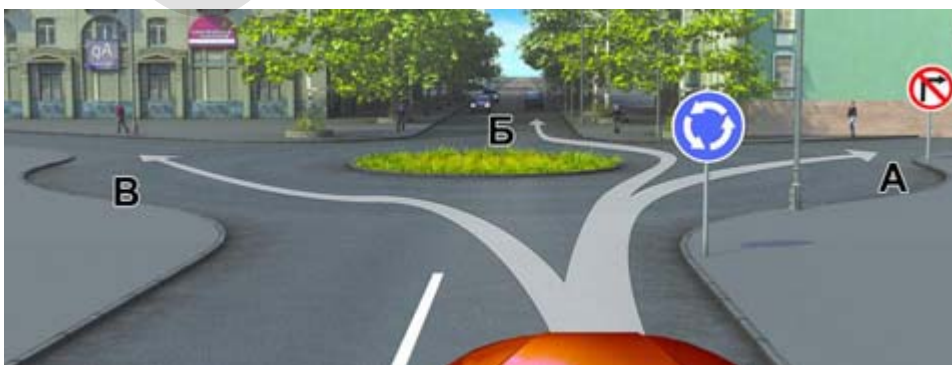
- **Остановиться через 300 м у таможни.**



856.

Разрешено ли Вам поставить автомобиль на стоянку в указанном месте по четным числам месяца?

- **Разрешено.**



857.

В каких направлениях Вам разрешено продолжить движение?

- **Только Б.**






858. Разрешена ли Вам стоянка в указанном месте?

- **Нет.**



859. Разрешен ли Вам обгон?

- **Запрещен.**



860. Разрешено ли Вам произвести остановку в указанном месте?

- **Да.**



861. Разрешено ли Вам при управлении легковым автомобилем с прицепом продолжить движение в прямом направлении?

- **Разрешено.**





**А**



**Б**



**В**

862.

Какой знак запрещает дальнейшее движение всех без исключения транспортных средств?

- **Б.**



863.

Разрешено ли Вам поставить автомобиль на стоянку за путепроводом?

- **Нет.**



864.

Разрешена ли Вам остановка в указанном месте?

- **Разрешена.**



865.

Разрешено ли Вам поставить автомобиль на стоянку в указанном месте по нечетным числам месяца?

- **Разрешено только после 19 часов.**





866.

Разрешается ли Вам осуществить посадку (высадку) пассажиров либо загрузку (разгрузку) транспортного средства в зоне действия этого знака?

- **Да, даже если остановка продлится более 5 минут.**



867.

Можете ли Вы обогнать трактор, управляя грузовым автомобилем с разрешенной максимальной массой не более 3,5 т?

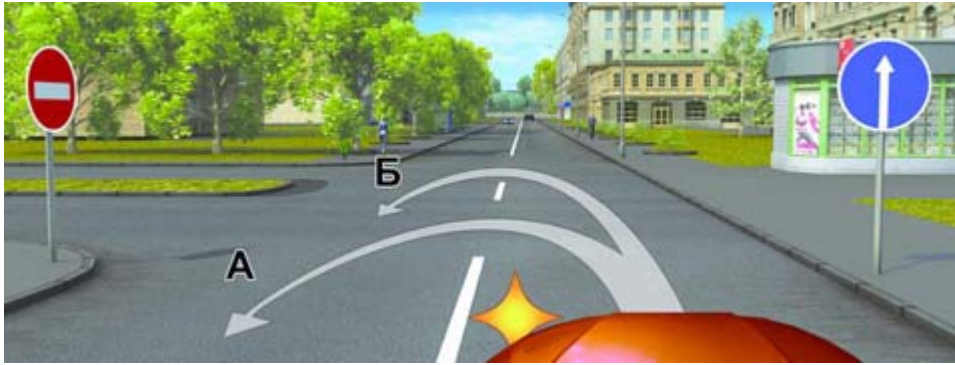
- **Да.**

868. В каком случае Вы имеете право двигаться в населенном пункте со скоростью более 60 км/ч?

- **Только если установлены дорожные знаки, разрешающие движение со скоростью более 60 км/ч.**



### Дорожные знаки: 4. Предписывающие знаки



869.

По какой траектории Вы можете выполнить разворот?


- **Только по Б.**



870.

Какую ошибку совершает водитель, въезжающий во двор?

- **Поворачивает, не включив указатели поворота.**



871.

Разрешено ли водителю подъехать задним ходом к пассажиру на этом участке дороги?

- **Да.**

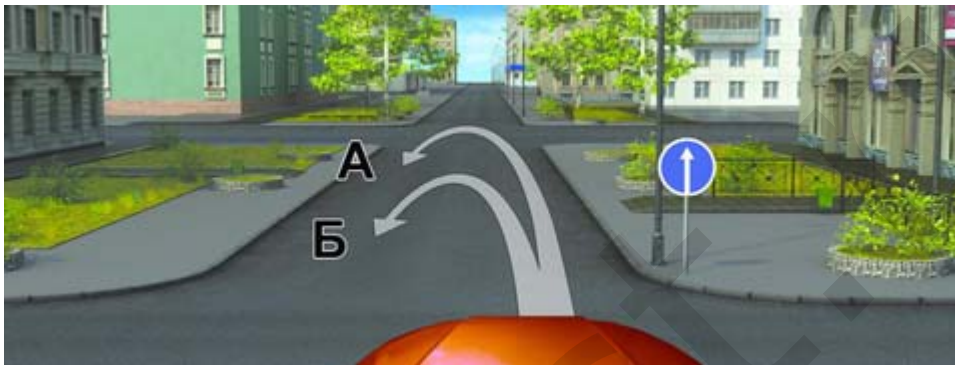






872.  
Как следует поступить, если Вам необходимо развернуться?

- Проехать прямо и развернуться за перекрестком.




873.  
По какой траектории Вам разрешено выполнить разворот?

- Только на перекрестке — по траектории А.



874.  
Нарушил ли водитель грузового автомобиля правила стоянки?

- Нарушил.



875.  
В каких направлениях Вам разрешено продолжить движение на грузовом автомобиле с разрешенной максимальной массой 3 т?

- В любых.





876. Вы буксируете неисправный автомобиль. По какой полосе Вы можете продолжить движение?
- **Только по правой.**



877. Разрешено ли Вам за перекрестком въехать во двор?
- **Да.**



878. По какой траектории Вы можете продолжить движение?
- **Только по А.**



879. В чем особенность скоростного режима на этом участке дороги?
- **Минимальная допустимая скорость движения по левой полосе — 50 км/ч.**





880.

С какой скоростью Вы можете продолжить движение вне населенного пункта по левой полосе на легковом автомобиле?

- Не менее 50 км/ч и не более 90 км/ч.



881.

В каких направлениях Вам разрешено продолжить движение на перекрестке?

- Только прямо.



882.

В какой из дворов Вы можете въехать в данной ситуации?

- Только во двор направо.



883.

В каких направлениях Вам разрешено продолжить движение?

- Только А или Б.






884. В каких направлениях Вам разрешено продолжить движение на легковом автомобиле?
- **В любых.**



885. По какой траектории Вам разрешено выполнить разворот?
- **Только по А.**



886. В каких направлениях Вам разрешено продолжить движение на перекрестке?
- **А или Б.**



887. В каких направлениях Вы можете продолжить движение по второй полосе на легковом автомобиле?
- **Прямо, налево и в обратном направлении.**





**А**



**Б**



**В**

888.

Какие знаки разрешают разворот?

• **Все.**



**А**



**Б**



**В**

889.

Какие знаки обязывают водителя грузового автомобиля с разрешенной максимальной массой до 3,5 т повернуть направо?

• **Только Б.**



890.

Водитель какого транспортного средства нарушает Правила?

• **Только легкового автомобиля.**



891.

Обязаны ли Вы включить указатели поворота в данной ситуации?

• **Да.**

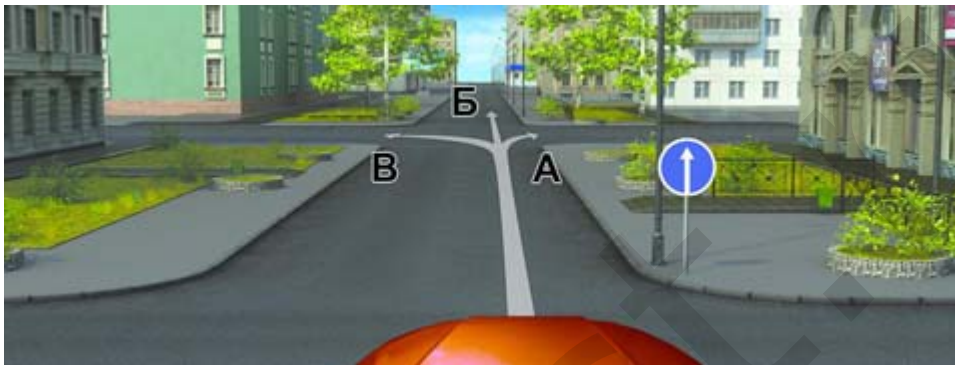




892.

С какой скоростью Вы можете продолжить движение в населенном пункте по левой полосе?

- **Не менее 50 км/ч и не более 60 км/ч.**



893.

В каких из указанных направлений Вы можете продолжить движение на следующем перекрестке?

- **Во всех.**



894.

Разрешен ли Вам разворот в указанном месте?

- **Не разрешен.**



895.

По какой траектории Вы можете продолжить движение?

- **Только по А.**





896. По какой траектории Вы можете объехать препятствие?  
 • **Только по А.**



**А**



**Б**



**В**

897. Какой из знаков обозначает пешеходную дорожку?  
 • **Только Б.**



898. В каких направлениях может продолжить движение водитель автомобиля с включенным проблесковым маячком?  
 • **В любом.**



899. При повороте направо Вы должны уступить дорогу:  
 • **Пешеходам и велосипедистам.**





А



Б



В

900.

Какие знаки разрешают движение со скоростью 60 км/ч?

- **Б и В.**



901.

В каких направлениях Вы можете продолжить движение по второй полосе?

- **Только налево и в обратном направлении.**



902.

Эти знаки, установленные перед перекрестком, означают, что:

- **Находясь на таком перекрестке, Вы будете иметь преимущество перед всеми ТС, въезжающими на него.**



903.

Обязаны ли Вы в данной ситуации включить левые указатели поворота?

- **Да.**



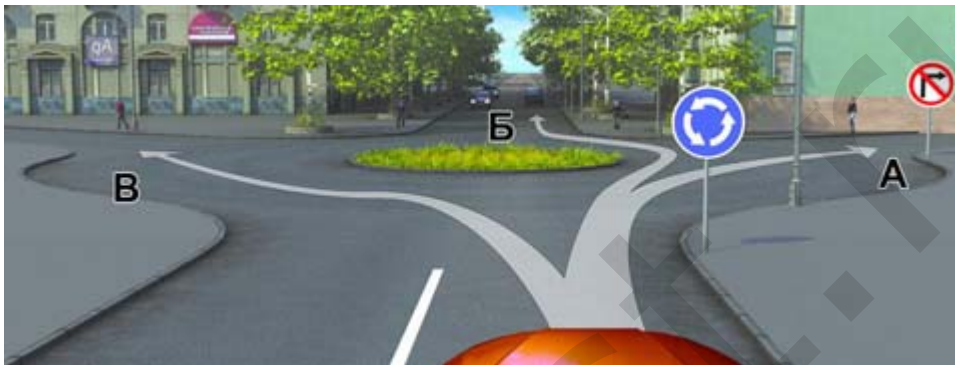




904.

С какой скоростью Вы можете продолжить движение в населенном пункте по правой полосе?

- Не более 60 км/ч.



905.

В каких направлениях Вам разрешено продолжить движение?

- Только Б.



906.

Вы намерены произвести разворот на перекрестке. Какие указатели поворота необходимо включить при въезде на перекресток?

- Правые.





907.

Кто из водителей, совершающих поворот, нарушает Правила?

- **Оба нарушают.**

---

Файл скачан с сайта [oltest.ru](http://oltest.ru)

